



المديرية العامة للتربية و التعليم لمحافظة الظاهرة

امتحان مادة الدراسات الاجتماعية  
للفيف الخامس

للعام الدراسي ١٤٤٥هـ - ٢٠٢٣ / ٢٠٢٤م  
الدور الأول - الفصل الدراسي الأول

- زمن الإجابة: ساعة و نصف
- عدد صفحات أسئلة الامتحان: (٧) صفحات.
- الإجابة في الدفتر نفسه.

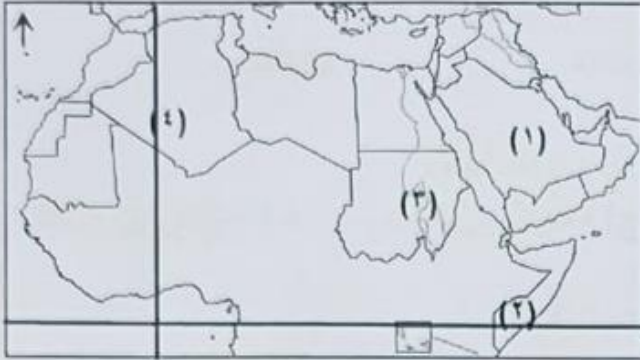
اسم الطالب	
الصف	المدرسة

السؤال	الدرجة		التوقيع بالاسم	
	بالأرقام	بالحروف	المصحح الأول	المصحح الثاني
١				
٢				
٣				
٤				
٥				
المجموع			جمعه	مراجعة الجمع
المجموع الكلي				

## أجب عن جميع الأسئلة الآتية

١٢

السؤال الأول: ضع دائرة حول رمز الإجابة الصحيحة لكل مفردة من المفردات الآتية:

١- الشعب الذي اشتملت خرائطهم على رسم قارات العالم في تلك الفترة:  
(أ) الرومان (ب) البابليون (ج) الإغريق (د) المصريون٢- المفهوم الذي تعبر عنه الآية الكريمة: ( فَمَنْ تَطَوَّعَ خَيْرًا فَهُوَ خَيْرٌ لَّهُ سورة البقرة: ١٨٤ )  
(أ) العمل التطوعي (ب) احترام القوانين (ج) الدفاع عن الوطن (د) الاجتهاد في طلب العلم

٣- الرقم الذي يشير إلى الدولة العربية التي تمر عليها دائرة الاستواء في الخريطة المقابلة:

(أ) (١) (ب) (٢)  
(ج) (٣) (د) (٤)٤- المرتبة التي تحتلها عمان من حيث مساحتها بالنسبة لشبه الجزيرة العربية:  
(أ) الأولى (ب) الثانية (ج) الثالثة (د) الرابعة٥- المنظمة العالمية التي قامت بإدراج شخصيات عمانية ضمن الشخصيات المؤثرة عالمياً:  
(أ) اليونسكو (ب) الفاو (ج) الجات (د) اليونيسيف٦- أحد الموانئ الشهيرة قديماً في محافظة ظفار، اهتمت حكومة سلطنة عمان بموقعه الأثري:  
(أ) دبا (ب) مسقط (ج) صحار (د) سمهرم

٧- الصورة المقابلة تعبر عن مظهر من مظاهر

الانتماء والولاء للوطن:

(أ) المشاركة في الأعمال التطوعية  
(ب) الاجتهاد في طلب العلم  
(ج) الدفاع عن الوطن  
(د) تنظيف ساحة المدرسة

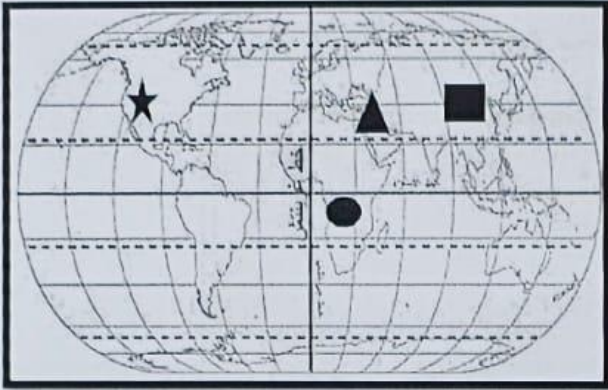
(٢)

الدور الأول - الفصل الدراسي الأول

الصف: الخامس

المادة: دراسات اجتماعية

العام الدراسي ٢٠٢٣/٢٠٢٤ م



٨- الرمز الذي يشير إلى المدينة المتقدمة في التوقيت عن بقية المدن في الخريطة المقابلة:

★ (ب)

■ (أ)

▲ (د)

● (ج)

٩- العِلْم الذي تميز و برع فيه ابن حديم:

(د) الطب

(ج) الخطابة

(ب) الشعر

(أ) النثر

١٠- أحد القادة في معركة سلّوت، و تولى حكم عُمان بعد وفاة أبيه :

(د) جواس بن حيان

(ج) معولة بن شمس

(ب) دارا بن دارا

(أ) هناة بن مالك بن فهم

١١- يُطلق على الطريقة المعمول بها لشراء السلع التجارية قديماً:

(د) التصدير

(ج) الاستيراد

(ب) المساومة

(أ) الفرضة

١٢- العِلْم الذي يهتم بفن رسم الخرائط وصناعتها يُعرف ب:

(د) الفلك

(ج) الخرائط

(ب) الجغرافيا

(أ) التاريخ

٨

السؤال الثاني: ( ٨ درجات ) :

أولاً: علل كلاً مما يلي:

(أ) لم يتم العثور على نماذج من الخرائط التي رسمها المصريون قديماً:

.....

.....

(ب) حجّ القبائل العربية إلى مكة قبل الإسلام:

.....

.....

(٣)

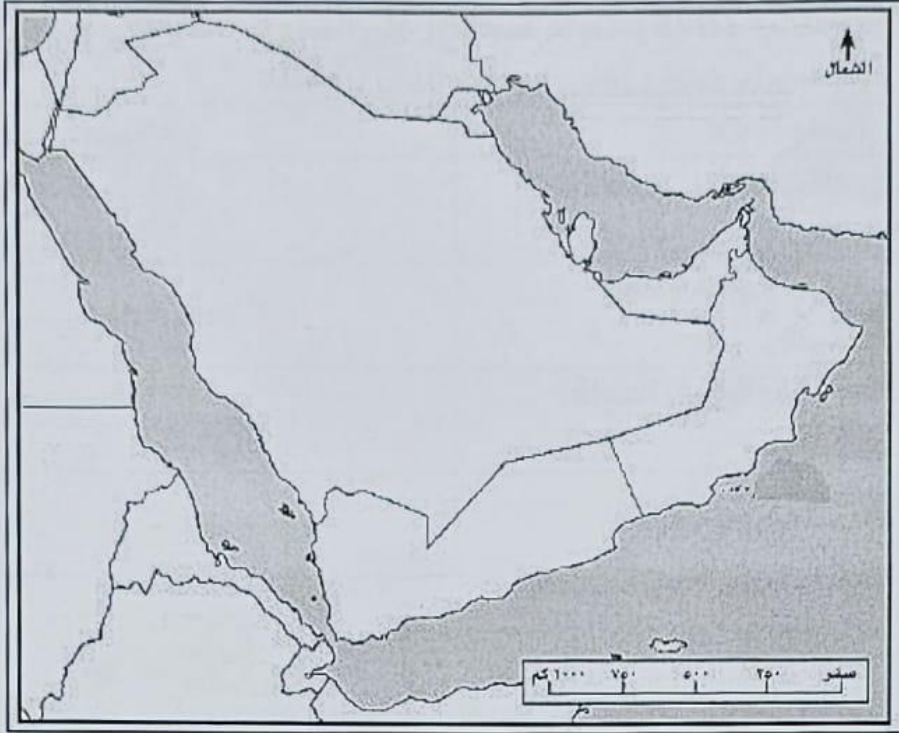
الدور الأول - الفصل الدراسي الأول

الصف : الخامس

المادة: دراسات اجتماعية

العام الدراسي ٢٠٢٣/٢٠٢٤م

ثانياً: انظر إلى خريطة شبه الجزيرة العربية أدناه ثم أجب عن الأسئلة التي تليها:



- أ- ظلل على الخريطة بقلم الرصاص (بلاد فارس).  
ب- اكتب على الخريطة (بحر عُمان) في مكانه الصحيح.  
ج- ارسم على الخريطة خط سير هجرة قبائل الأزد إلى عُمان.

ثالثاً: اكتب ما تمثله العبارات التالية:

(أ) من المؤسسات الخيرية في سلطنة عُمان، تدعم العمل المجتمعي و الإنساني لخدمة المسنين و الأيتام . ( .....

(ب) صرح شامخ يسعى لتعزيز الانتماء و الاعتزاز الوطني ، تم افتتاحه عام ٢٠٢٣ م .  
( .....

(ج) الوسيلة التي استخدمها الإنسان قديماً لمعرفة المواقع و الاتجاهات .  
( .....

(٤)

الدور الأول - الفصل الدراسي الأول

الصف : الخامس

المادة: دراسات اجتماعية

العام الدراسي ٢٠٢٣/٢٠٢٤م

٨

السؤال الثالث: ( ٨ درجات ):

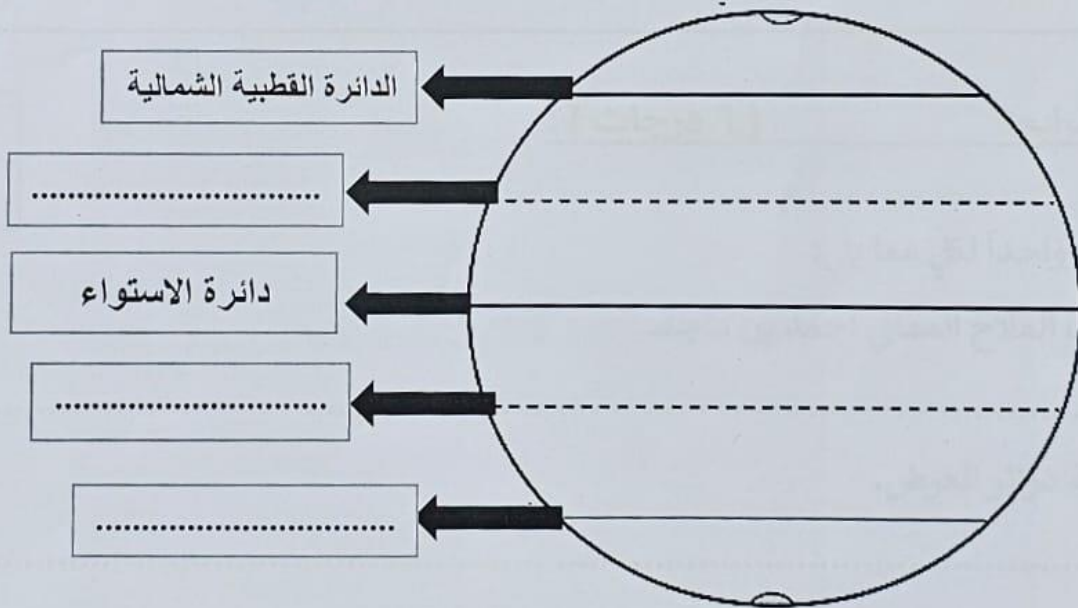
أولاً: قيّم السلوكيات التالية بكتابة (سلوك صحيح) على السلوك الدال على مظاهر الولاء والانتماء للوطن، و (سلوك خاطئ) على السلوك الذي يخالفه:

التقييم:	السلوكيات:
	أ- الاجتهاد في طلب العلم.
	ب- تدمير الممتلكات العامة وعدم المحافظة عليها.
	ج- مخالفة الأنظمة والقوانين في الدولة.
	د- تقديم العون والمساعدة للآخرين.

ثانياً:

( أ ) أكمل بيانات الشكل التالي بكتابة دوائر العرض الرئيسية التالية في مكانها المناسب في الفراغات :

(مدار السرطان – الدائرة القطبية الجنوبية - مدار الجدي)



يتبع / ٥

(ب) إذا كانت الساعة ( ١٠ مساءً ) في مدينة جرينتش ، فكم ستكون الساعة في مدينة واشنطن الواقعة على خط طول ( ٧٥ ) غرب جرينتش ؟  
(ملاحظة: يجب توضيح خطوات الحل)

.....

.....

.....

ثالثاً: انظر إلى الصورة التي أمامك ثم أجب عن الأسئلة الآتية:



- أ- اسم الجهاز.....
- ب- في أي سنة ميلادية تم إطلاق هذا الجهاز؟.....
- ج- اكتب واحداً من العوامل التي تؤثر في دقة رصد هذا الجهاز.

.....

السؤال الرابع: ( ٦ درجات ) :

٦

أولاً: اكتب واحداً لكل مما يلي:

(أ) إنجازات الملاح العماني أحمد بن ماجد.

.....


(ب) أهمية دوائر العرض.

.....

ثانياً: رتب الأحداث التاريخية التالية ترتيباً صحيحاً من الأقدم إلى الأحدث:

- ( ) طلب الفرس الصلح من مالك بن فهم.  
 ( ) انتصار الأزد و طرد الفرس من عُمان بشكلٍ كاملٍ.  
 ( ) انتصار الأزد على الفرس في معركة سلّوت.  
 ( ) إرسال ملك الفرس دارا بن دارا جيشاً للفرس لمساعدتهم في صحار.

ثالثاً: سمِّ الصناعات التي عرفها العمانيون قبل الإسلام حسب ما تشير إليها الصور التالية:



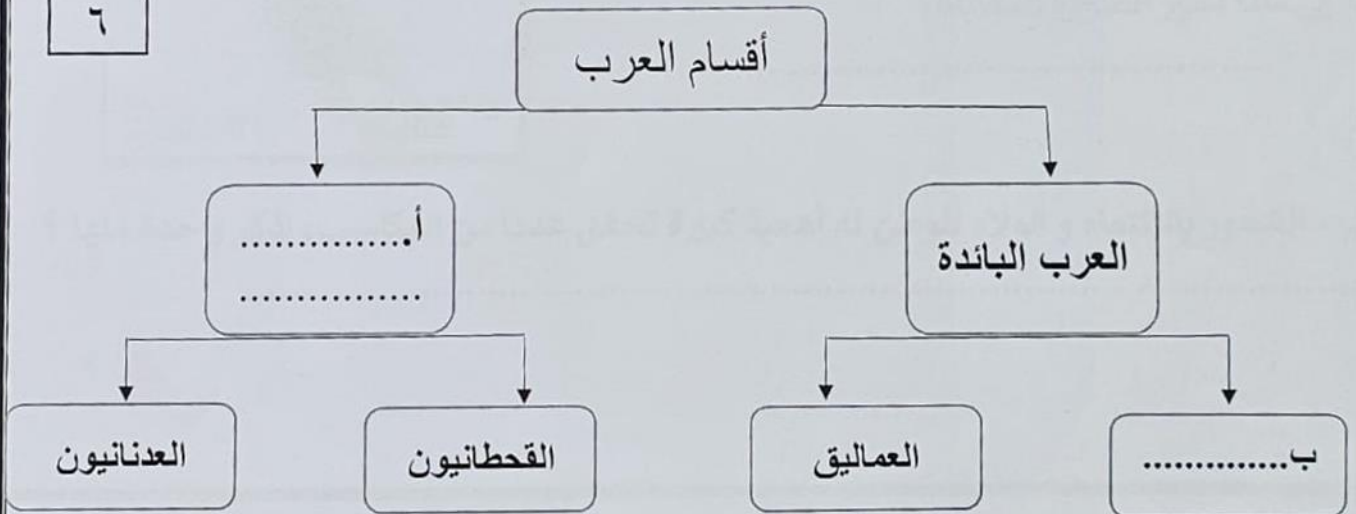
(.....)

(.....)

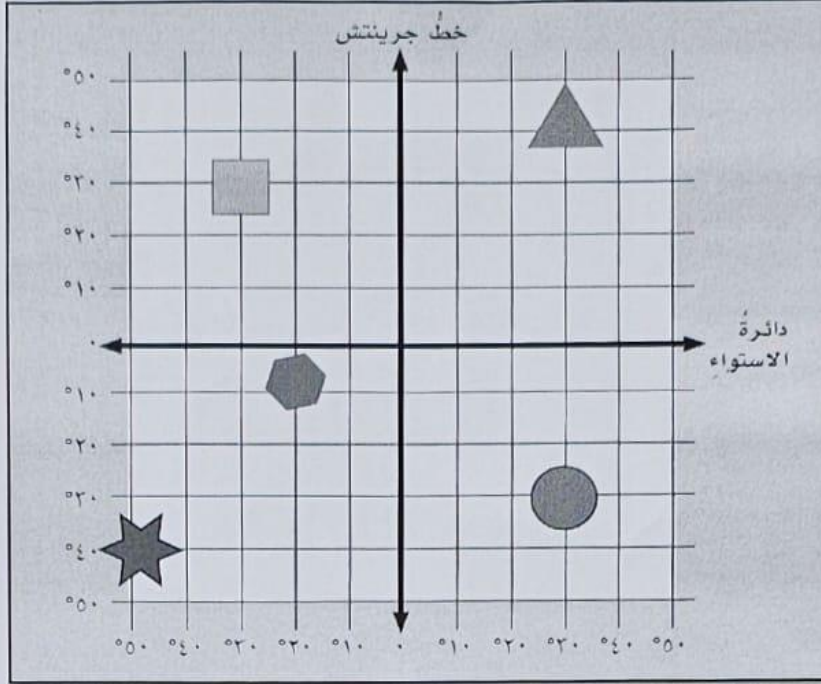
السؤال الخامس: (٦ درجات) :

أولاً: أكمل بيانات المخطط التالي بما يناسبه:

٦



ثانياً: ادرس شبكة الإحداثيات التي أمامك، ثم أرسم أمام العبارتين أدناه الرمز الذي يمثلها من الشكل:




أ - يقع شمال دائرة الاستواء وشرق خط جرينتش.

ب - يقع على خط طول ٣٠ غرباً ودائرة عرض ٣٠ شمالاً.



ثالثاً:

أ - إلى ماذا تشير الصورة المقابلة؟

.....

ب - الشعور بالانتماء و الولاء للوطن له أهمية كبيرة تحقق عدداً من المكاسب، اذكر واحدة منها؟

.....

انتهت الأسئلة مع الدعاء للجميع بالتوفيق والنجاح