



امتحان مادة: الدراسات الاجتماعية
 للصف: السابع الأساسي
 للعام الدراسي ١٤٤٥ هـ - ٢٣/٢٠٢٤ م
 الدور الأول - الفصل الدراسي الأول - الفترة المسائية

- زمن الامتحان: (ساعة ونصف) • عدد صفحات أسئلة الامتحان: (٨) صفحات.
- الإجابة في الدفتر نفسه.

		اسم الطالب
الصف		المدرسة

التوقيع بالاسم		الدرجة		السؤال
المصحح الثاني	المصحح الأول	بالحروف	بالأرقام	
				١
				٢
				٣
				٤
				٥
مراجعة الجمع	جمعه			المجموع
				المجموع الكلي

المادة : الدراسات الاجتماعية الصف : السابع الدور الأول - الفصل الدراسي الأول
الفترة المسائية - العام الدراسي ٢٠٢٣/٢٠٢٤ م

أجب عن جميع الأسئلة الآتية

السؤال الأول: ضع دائرة حول رمز الإجابة الصحيحة من بين المفردات الآتية:
١- أضخم إنجاز بشري حققه الإنسان في العصر الحجري القديم:

- (أ) الزراعة. (ب) النار. (ج) الكتابة. (د) النقود.

٢- الاسم الذي أطلقه السومريون على عُمان:


- (أ) بلاد الفضة. (ب) أرض الجبال.
(ج) سفن البحر. (د) أرض النحاس.

٣- الصورة التي تمثل أحد الإنجازات التي حققها الإنسان في العصر الحديدي:

- (أ) (ب)



(د)



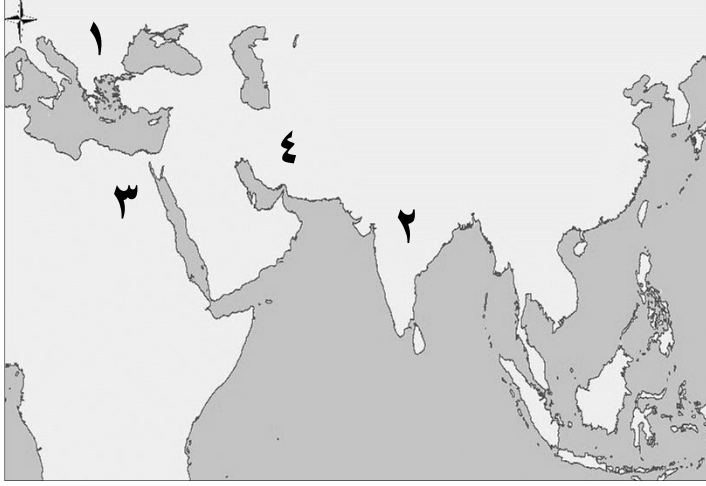
(ج)



المادة : الدراسات الاجتماعية الصف : السابع الدور الأول - الفصل الدراسي الأول
الفترة المسائية - العام الدراسي ٢٠٢٣/٢٠٢٤م

تابع السؤال الأول:

٤- الرقم الذي يشير إلى الحضارة التي أطلقت على البحرين مسمى (أوال) في الخريطة المقابلة:



(أ) ١

(ج) ٣

(ب) ٢

(د) ٤

٥- يطلق على العملية الشاملة لحصر الأفراد والتعرف على حالتهم الاقتصادية والاجتماعية في الدولة بـ:

(أ) التعداد.

(ب) الإحصاء الحيوي.

(ج) سجلات الهجرة.

(د) السكان.

٦- الشهر الميلادي الذي يحتفل فيه العالم بيوم الغذاء العالمي هو:

(أ) سبتمبر.

(ب) أكتوبر.

(ج) نوفمبر.

(د) ديسمبر.

٧- إذا علمت أن عدد سكان السلطنة في منتصف عام ٢٠٢٣م بلغ (٥,١٢٥,٩١٦) نسمة، وكان عدد المواليد الأحياء

(٤٥,٦٩٧) في نفس العام، فإن معدل المواليد الأحياء في الألف يبلغ:

(أ) ٦,٩

(ب) ٧,٩

(ج) ٨,٩

(د) ٩,٩

٨- تتأثر نسبة النوع في المجتمعات بـ:

(أ) ثبات معدلات الهجرة.

(ب) دقة البيانات الإحصائية.

(ج) تساوي وفيات الجنسين.

(د) المعارك والحروب.

المادة : الدراسات الاجتماعية الصف : السابع الدور الأول - الفصل الدراسي الأول
الفترة المسائية - العام الدراسي ٢٠٢٣/٢٠٢٤م

تابع السؤال الأول:

٩- الشكل الصحيح الذي يمثل العوامل البشرية المؤثرة في توزيع سكان العالم:

الهجرة
الخدمات
الحرفة السائدة
(ب)

الخدمات
وسائل النقل
التضاريس
(أ)

الحرفة السائدة
المناخ
الهجرة
(د)

الخدمات
وسائل النقل
المناخ
(ج)

١٠- مصطلح يقصد به سلامة الإنسان من أي مرض وقيامه بوظائفه على أكمل وجه:
(أ) الصحة. (ب) التوعية. (ج) الأسرة. (د) المدرسة.

١١- السبب في حوادث المرور في سلطنة عمان الموضح في الصورة المقابلة:
(أ) السرعة. (ب) ظروف الطقس.



(ج) التجاوز الخاطئ. (د) الإهمال.

١٢- يبرز دور المواطن العماني في الحفاظ على ممتلكات الدولة من خلال:
(أ) ترشيد النفقات. (ب) تخريب أجهزة الطاقة.

(ج) تلويث البيئة. (د) اقتلاع أجهزة المياه.

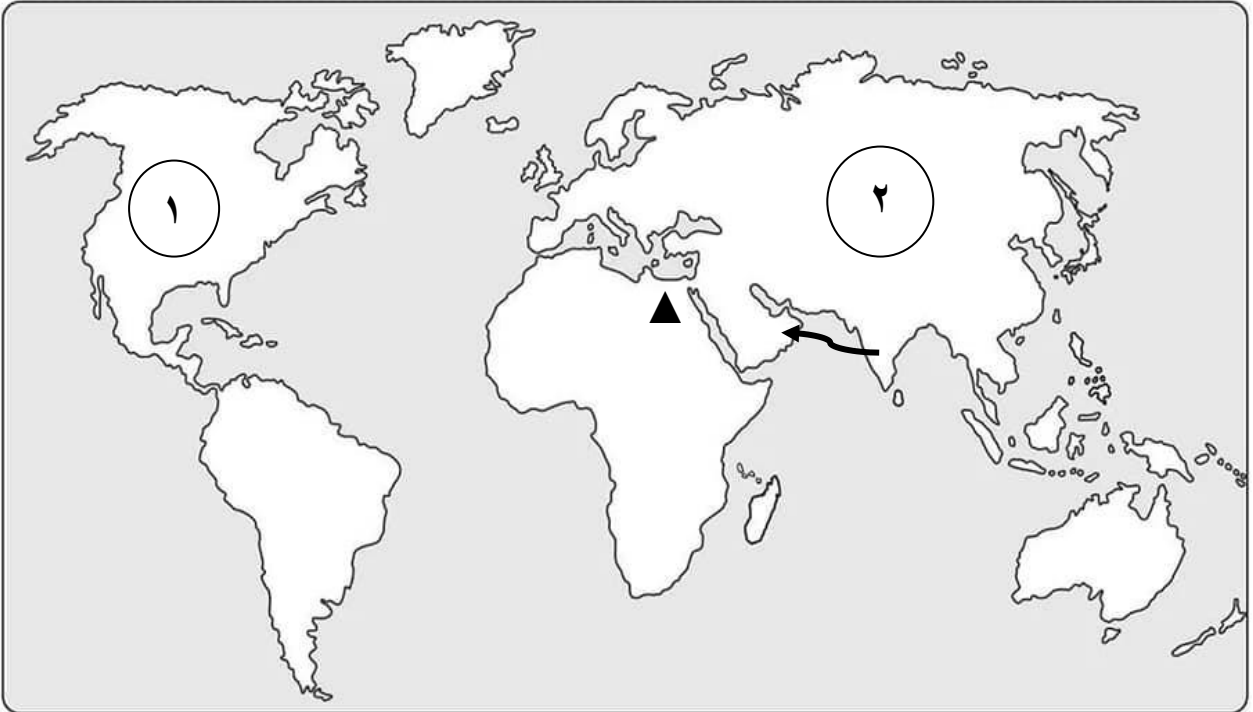
المادة : الدراسات الاجتماعية الصف : السابع الدور الأول - الفصل الدراسي الأول
الفترة المسائية - العام الدراسي ٢٠٢٣/٢٠٢٤ م

السؤال الثاني:

أ- اكتب المصطلح أو المفهوم المناسب للعبارات الآتية:

.....	١- استغلال المال الزائد عن الحاجة، لإقامة مشاريع تزيد من الدخل
.....	٢- آلة حادة ذات مقبض خشبي ورأس حديدي حاد مستدير الشكل
.....	٣- حضارة ازدهرت في الألف الثالثة ق.م وتقع شمال مدينة كراتشي

ب- امامك خريطة العالم، ادرسها جيدا ثم أجب عن الأسئلة التي تليها:



١- ما نوع الهجرة من حيث المكان كما يوضحها السهم الظاهر أمامك.....

٢- الرقم الذي يشير إلى إحدى قارات العالم ذات الكثافة السكانية العالية.....

٣- العامل الرئيس لزيادة الكثافة السكانية في الدولة المشار إليها بالرمز (▲).....

.....
.....

المادة : الدراسات الاجتماعية الصف : السابع الدور الأول - الفصل الدراسي الأول
الفترة المسائية - العام الدراسي ٢٠٢٣/٢٠٢٤ م

تابع/ السؤال الثاني:

ج- اذكر نتيجة واحدة ترتبت على ما يلي:

١- تحول طرق التجارة البرية المارة بمملكة سبأ إلى بحر العرب والبحر الأحمر.

.....

٢- زيادة فتي صغار السن وكبار السن في المجتمع.

.....

السؤال الثالث:

أ- رتب الأحداث التالية من الأحدث إلى الأقدم:

() ظهور الدولة الإسلامية ودخول اليمن في الإسلام.

() الحملة البرية الرومانية للسيطرة على اليمن.

() فشل الأحباش في الهجوم على مكة المكرمة.

() سيطرة الدولة الفارسية على اليمن.

ب- مستعينا بالصورة المقابلة، أجب عن الأسئلة الآتية:

١- سم السلوك الخاطئ الذي تشير إليه الصورة؟

.....

٢- اكتب نتيجة قد تترتب على هذا السلوك الخاطئ؟

.....

٣- اقترح أسلوباً للتوعية من هذا السلوك الخاطئ؟

.....

ج- اجب عن الأسئلة الآتية:

١- دلل على أن نظام الحكم في دلمون كان ملكياً.

.....

.....

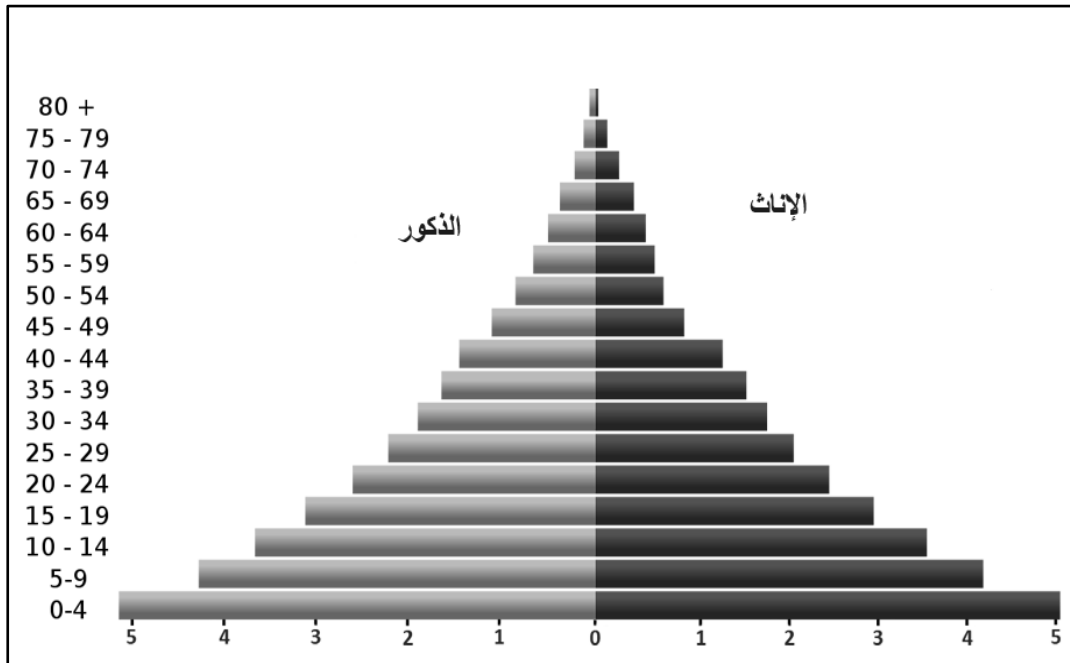
المادة : الدراسات الاجتماعية الصف : السابع الدور الأول - الفصل الدراسي الأول
الفترة المسائية - العام الدراسي ٢٠٢٣/٢٠٢٤ م

٢- اكتب اثنين من منجزات العصر البرونزي.

..... -
..... -

السؤال الرابع:

أ- ادرس الهرم السكاني الذي أمامك ثم أجب عن الأسئلة التي تليه:



١- ما نوع الهرم السكاني؟

٢- اذكر الفئة السكانية الأكثر عددا في الهرم السكاني أعلاه.....

المادة : الدراسات الاجتماعية الصف : السابع الدور الأول - الفصل الدراسي الأول
الفترة المسائية - العام الدراسي ٢٠٢٣/٢٠٢٤ م

تابع السؤال الرابع:

ب - عرف ما يلي:

١- القوى العاملة

.....
.....

٢- أمد الحياة

.....
.....

ج- اذكر سببين لهجرة العمانيين من المحافظات الأخرى إلى محافظة مسقط؟

-
-

السؤال الخامس:

أ- قارن بين اللبان بعد الضربة الأولى والضربة الثانية حسب أوجه المقارنة الواردة بالجدول التالي:

وجه المقارنة	كمية الانتاج	جودة اللبان
الضربة الأولى		
الضربة الثانية		

المادة : الدراسات الاجتماعية الصف : السابع الدور الأول - الفصل الدراسي الأول
الفترة المسائية - العام الدراسي ٢٠٢٣/٢٠٢٤ م

تابع السؤال الخامس:

ب- اذكر اثنين مما يلي:

١- الممتلكات العامة

..... -

..... -

٢- مصادر الدخل

..... -

..... -

ج- أعط نتيجة واحدة لكل مما يلي على صحة الفرد

١- التدخين

.....

.....

٢- الحوادث المرورية

.....

.....

انتهت الأسئلة مع الدعاء للجميع بالتوفيق والنجاح.



نمؤذج إجابة امتحان الصف السابع مادة الدراسات الاجتماعية للعام الدراسي ١٤٤٥/١٤٤٦هـ - ٢٠٢٣/٢٠٢٤م
الدور الأول- الفصل الدراسي الأول - الفترة المسائية

أولاً: إجابة السؤال الأول (١٢ درجة)

الصفحة	الدرجة	الإجابة	الرمز الصحيح	المفردة
١٦	١	النار	ب	١
٢٦	١	أرض النحاس	د	٢
١٨	١	استخدام النقود	ب	٣
٣٤	١	٤	د	٤
٤٢	١	التعداد	أ	٥
٦٩	١	أكتوبر	ب	٦
٥٢	١	٨,٩	ج	٧
٤٨	١	المعارك والحروب	د	٨
٦٢-٦١	١	الهجرة الخدمات الحرفة السائدة	ب	٩
٧٩	١	الصحة	أ	١٠
٩٤-٩٠	١	التجاوز الخاطئ	ج	١١
٨٨	١	ترشيد النفقات	أ	١٢
١٢		المجموع		

تابع - نموذج إجابة امتحان مادة الدراسات الاجتماعية للصف السابع للعام الدراسي ٢٠٢٣/٢٠٢٤م
الدور: الأول- الفصل الدراسي الأول - الفترة المسائية

ثانيا: إجابة السؤال الثاني (٨ درجات)

المفردة	الجزئية	الإجابة	الدرجة	الصفحة
أ	١	الاستثمار	١	٧٥
	٢	المنقف	١	٢٩
	٣	كولي	١	٣٦
ب	١	خارجية	١	٥٦
	٢	٢	١	٤٧
	٣	السهول النهرية / نهر النيل	١	٦١
ج	١	ضعف دولة سبأ	١	٣٩
	٢	زيادة نسبة الإعالة	١	٤٧
المجموع		٨		

تابع - نموذج إجابة امتحان مادة الدراسات الاجتماعية للصف السابع للعام الدراسي ٢٠٢٣/٢٠٢٤ م
الدور: الأول- الفصل الدراسي الأول - الفترة المسائية

ثالثا: إجابة السؤال الثالث (٨ درجات)

المفردة	الجزئية	الإجابة	الدرجة	الصفحة
أ	١	١ - ٤ - ٣ - ٢ درجتان لكل مفردة نصف درجة	٢	٤٠
ب	١	استعمال الهاتف النقال أثناء القيادة	١	٩٥-٩٤
	٢	وقوع حوادث	١	
	٣	- اصدار النشرات الإرشادية - برامج توعوية إعلامية - توعية أصحاب المركبات - (ما يفيد المعنى)	١	
ج	١	النصوص تشير إلى أن خادم الاله ينبغي أن يكون ملكا	١	٣٤
	٢	- معرفة البرونز - استخدام الكتابة - استخدام الطوب في البناء - استخدام الأثاث الخشبي - تقدم العلوم كالحساب والهندسة والطب والفلك. (درجتان لكل مفردة درجة)	٢	١٨
		المجموع	٨	

تابع - نموذج إجابة امتحان مادة الدراسات الاجتماعية للصف السابع للعام الدراسي ٢٠٢٣/٢٠٢٤م
الدور: الأول- الفصل الدراسي الأول - الفترة المسائية

رابعاً: إجابة السؤال الرابع (٦ درجات)

الصفحة	الدرجة	الإجابة	الجزئية	المفردة
٤٩-٤٨	١	الهرم ذو القاعدة العريضة	١	أ
	١	صغار السن	٢	
٥٠	١	الأفراد في سن العمل من الذكور والإناث سواء أكانوا عاملين أم باحثين عن عمل	١	ب
٥٥	١	عدد السنوات التي يعيشها الفرد	٢	
٥٧	٢	عوامل الجذب السكاني / فرص عمل / توفر خدمات تعليمية واجتماعية وصحية / مستوى معيشي أفضل (لكل سبب درجة ويراعى ما يفيد المعنى)		ج
٦		المجموع		

تابع - نموذج إجابة امتحان مادة الدراسات الاجتماعية للصف السابع للعام الدراسي ٢٠٢٣/٢٠٢٤ م
الدور: الأول- الفصل الدراسي الأول - الفترة المسائية

خامسا: إجابة السؤال الخامس (٦ درجات)

الصفحة	الدرجة	الإجابة	الجزئية	المفردة									
٣٠	٢ لكل مفردة نصف درجة	<table border="1"> <thead> <tr> <th>وجه المقارنة</th> <th>كمية الانتاج</th> <th>جودة اللبان</th> </tr> </thead> <tbody> <tr> <td>الضربة الأولى</td> <td>كمية ليست تجارية / قليلة</td> <td>غير جيدة</td> </tr> <tr> <td>الضربة الثانية</td> <td>كميات تجارية</td> <td>نوعية جيدة</td> </tr> </tbody> </table>	وجه المقارنة	كمية الانتاج	جودة اللبان	الضربة الأولى	كمية ليست تجارية / قليلة	غير جيدة	الضربة الثانية	كميات تجارية	نوعية جيدة	١	أ
وجه المقارنة	كمية الانتاج	جودة اللبان											
الضربة الأولى	كمية ليست تجارية / قليلة	غير جيدة											
الضربة الثانية	كميات تجارية	نوعية جيدة											
٨٤	١	<ul style="list-style-type: none"> - المستشفيات - المعالم الأثرية / قلاع / أفلاج / منتزهات - الموارد الطبيعية / جبال / عيون - المشروعات الصناعية الكبرى - الغابات والمحميات - الحدائق العامة والطرق <p>(يكتفى باثنتين لكل نصف درجة) (يراعى ما يفيد المعنى)</p>	١	ب									
٧٥-٧٤	١	<ul style="list-style-type: none"> - الراتب الوظيفي / الزراعة / التجارة / الرعي / الصناعة <p>(يكتفى باثنتين ويراعى ما يفيد المعنى)</p>	٢										
٨٠	١	<ul style="list-style-type: none"> - الامراض الخطيرة - ضيق التنفس- سرطان الرئة <p>(يراعى ما يفيد المعنى، يكتفى بواحدة)</p>	١	ج									
٩٥-٩٠	١	<ul style="list-style-type: none"> - الكسور، الجروح، الشلل... الخ <p>(يراعى ما يفيد المعنى)</p>	٢										
٦		المجموع											

نهاية نموذج الإجابة



امتحان مادة : الدراسات الاجتماعية

للفف : السابع الأساسي

للعام الدراسي ١٤٤٥هـ - ٢٠٢٣/٢٠٢٤ م

الدور الأول - الفصل الدراسي الأول - الفترة الصباحية

- زمن الامتحان: (ساعة ونصف) ● عدد صفحات أسئلة الامتحان: (٧) صفحات.
- الإجابة في الدفتر نفسه .

		اسم الطالب
الصف		المدرسة

التوقيع بالاسم		الدرجة		السؤال
المصحح الثاني	المصحح الأول	بالحروف	بالأرقام	
				١
				٢
				٣
				٤
				٥
مراجعة الجمع	جمعه			المجموع
				المجموع الكلي

المادة : الدراسات الاجتماعية الصف : السابع - الدور الأول - الفصل الدراسي الأول - الفترة الصباحية
العام الدراسي ٢٠٢٣/٢٠٢٤ م

السؤال الأول: ضع دائرة حول رمز الإجابة الصحيحة لكل مفردة من المفردات الآتية:

١٢

١- من الممتلكات العامة والتي تعد من الشواهد التاريخية على حضارات قامت على أرض الدولة وتعمل على تنشيط السياحة :


(ب)



(أ)



(د)



(ج)



٢- دولة ما أقيم فيها أول تعداد عام ٢٠١٤ م والثاني عام ٢٠١٩ م؛ لذا فمن المتوقع أن يقام التعداد الثالث في العام :
(أ) ٢٠٢٢ (ب) ٢٠٢٣ (ج) ٢٠٢٤ (د) ٢٠٢٥

٣- الحضارة التي اطلقت على عمان أسم مجان هي :
(أ) السومرية (ب) الأكادية (ج) الآشورية (د) الفرعونية

٤- من الموارد الطبيعية غير المتجددة :
(أ) الهواء (ب) الماء (ج) النفط (د) التربة

٥- الإنجاز الذي حققه الإنسان في الصورة المقابلة ظهر في العصر :

(أ) الحديدي (ب) البرونزي

(ج) الحجري الحديث (د) الحجري القديم



(٢)

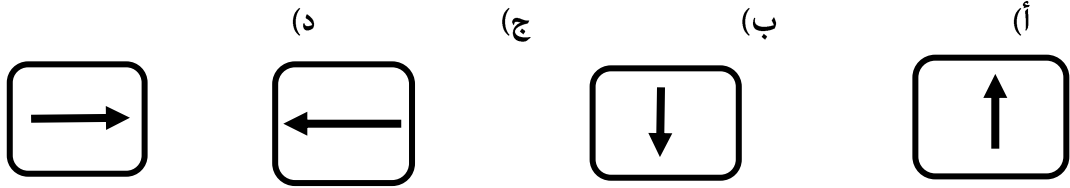
المادة : الدراسات الاجتماعية الصف : السابع - الدور الأول - الفصل الدراسي الأول - الفترة الصباحية
العام الدراسي ٢٠٢٣/٢٠٢٤م

تابع : السؤال الأول : ضع دائرة حول رمز الإجابة الصحيحة لكل مفردة من المفردات الآتية:

٦- الفئة العمرية المنتجة بالمجتمع :

(أ) أقل من ١٥ سنة (ب) من ١٥-٦٤ سنة (ج) من ٤٠-٦٥ سنة (د) أكثر من ٦٥ سنة

٧- السهم الذي يشير إلى موقع حضارة أم النار بالنسبة لحضارة دلمون:



٨- السبب الرئيسي في حوادث المرور في سلطنة عمان عام ٢٠٢٠م وفقا للجدول التالي :
(أ) السرعة (ب) الإهمال

٢٨٢	سوء التصرف
٢٠٦	الإهمال
٧٠٢	السرعة
٣٠	التجاوز الخاطئ

(ج) التجاوز الخاطئ (د) سوء التصرف

٩- العمود الصحيح الذي يمثل مقومات الصحة الجيدة :

(أ) (ب) (ج) (د)

تجنب التدخين	ممارسة الرياضة بانتظام	التقليل من الرياضة	تناول وجبة الإفطار
ممارسة الرياضة بانتظام	تناول وجبة الإفطار	تجنب التدخين	الاكثار المشروبات الغازية
تناول وجبة الإفطار	تجنب المشروبات الغازية	تناول وجبة الإفطار	تجنب التدخين
تجنب المشروبات الغازية	التدخين المستمر	تجنب المشروبات الغازية	ممارسة الرياضة بانتظام

١٠- الاسم الذي أطلقه العرب على اليمن :

(أ) اليمن السعيدة (ب) الأرض المباركة (ج) يمن الخير (د) اليمن الخضراء

١١- قام أحمد بتصفح موقع المركز الوطني للإحصاء والمعلومات ووجد أن عدد المواليد في محافظته في عام ٢٠٢٢م بلغ (٥٠٠٠) مولود وعدد الوفيات في نفس العام (٤٠٠) حالة وفاة ؛ فإن الزيادة الطبيعية في محافظته تبلغ :

(أ) ٤٠٠ (ب) ٤٦٠٠ (ج) ٥٠٠٠ (د) ٥٤٠٠

المادة : الدراسات الاجتماعية الصف : السابع - الدور الأول - الفصل الدراسي الأول - الفترة الصباحية
العام الدراسي ٢٠٢٣/٢٠٢٤م

تابع : السؤال الأول : ضع دائرة حول رمز الإجابة الصحيحة لكل مفردة من المفردات الآتية:

١٢- تصنف الهجرة من حيث مدة الإقامة إلى :

أ) دائمة/داخلية ب) مؤقتة /اجبارية ج) دائمة/مؤقتة د) مؤقتة/داخلية

٨

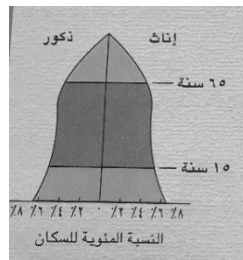
السؤال الثاني : أجب عن الأسئلة التالية :

أولاً : إقرأ الآية الكريمة ؛ ثم أجب عن الأسئلة التي تليها :

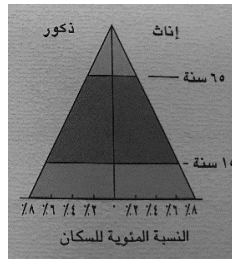
قال تعالى : ﴿ لَقَدْ كَانَ لِسَبَإٍ فِي مَسْكِنِهِمْ آيَةٌ ۖ جَنَّتَانِ عَنْ يَمِينٍ وَشِمَالٍ ۚ كُلُوا مِنْ رِزْقِ رَبِّكُمْ وَاشْكُرُوا لَهُ ۗ بَلَدَةٌ طَيِّبَةٌ وَرَبُّ غَفُورٌ ﴾

- ١- أذكر اسم الدولة التي قامت في اليمن وذكرت في هذه الآية.
- ٢- ما اسم المشروع المائي الذي أقامته هذه الدولة لحفظ المياه.
- ٣- من أشهر ملوك هذه الدولة والتي ذكر اسمها في القرآن الكريم. (أكمل)
- ٤- الدولة التي كانت تسيطر على اليمن مع ظهور الدولة الإسلامية. (أكمل)

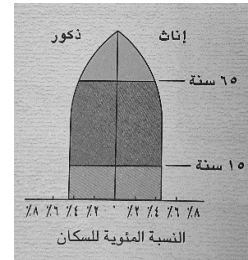
ثانياً : تعن صورة الاهرامات التالية ثم اجب عن الأسئلة التي تليها :



ج



ب



أ

١- كم يبلغ عدد الفئات العمرية التي يمثلها الهرم

٢- رمز الهرم الذي يمثل سلطنة عمان (أكمل)

٣- الهرم الذي يمثل المجتمع المسن (الهرم) يرمز له بالرمز (أكمل)

المادة : الدراسات الاجتماعية الصف : السابع - الدور الأول - الفصل الدراسي الأول - الفترة الصباحية
العام الدراسي ٢٠٢٣/٢٠٢٤م

تابع السؤال الثاني : أجب عن الأسئلة التالية :

ثالثاً : صنف أرقام العبارات التالية بما يعد وصفاً صحيحاً للحضارات التي قامت في شبه الجزيرة العربية :

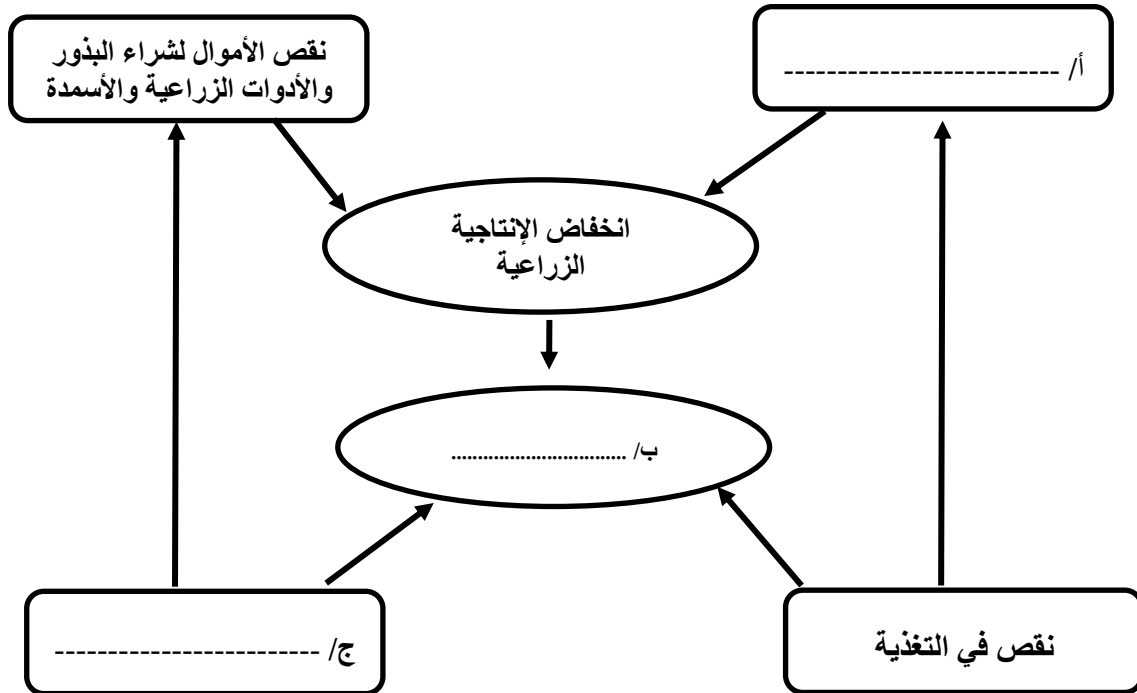
- ١- يضم موقعها ما يزيد عن خمسين مدفناً .
- ٢- توجد بها مقبرة عالي .
- ٣- بنو مدنهم محاطة بالأسوار .
- ٤- يتميز فخارها بتعدد الألوان والزخارف .
- ٥- تتواجد آثارها حالياً في إمارة أبو ظبي .
- ٦- توجد آثار للمعابد في منطقة باربار .

حضارة أم النار	حضارة دلمون
.....
.....
.....

السؤال الثالث : أجب عن الأسئلة التالية :

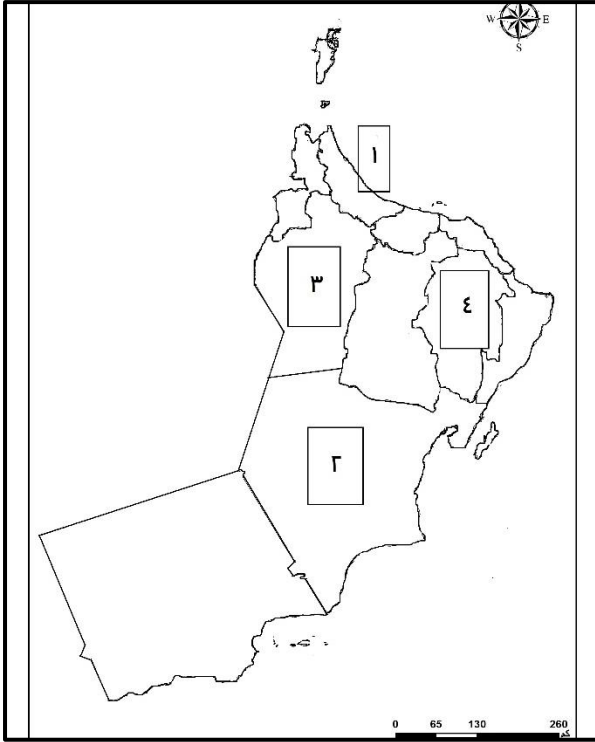
٨

أولاً: أكمل المخطط التالي والذي يوضح حلقة الفقر بالعبارات بين القوسين :
(ضعف فرص الادخار ، نقص الأيدي العاملة ، ضعف القدرة على العمل ، انخفاض الدخل)



المادة : الدراسات الاجتماعية الصف : السابع - الدور الأول - الفصل الدراسي الأول - الفترة الصباحية
العام الدراسي ٢٠٢٣/٢٠٢٤م

تابع السؤال الثالث : تمعن خريطة سلطنة عمان التالية ثم اجب عن الأسئلة :



١- ضع الرمز \bigcirc على المحافظة العمانية التي تعتبر الموطن الأصلي لشجرة اللبان .

٢- حدد بالرمز \triangle الولاية التي عثرفي جامع قلعتهاعلى (٢٧٠) قطعة فضية تعود إلى الألف الثالثة قبل الميلاد .

٣- رقم المحافظة العمانية التي اتخذ الفرس من إحدى مدنها مركزاً لتجارتهم البحرية في عصر الدولة الساسانية (.....)

٤- رقم المحافظة العمانية التي توجد بها الآثار في الصورة المقابلة (.....)



ثالثاً : اقرأ الفقرة التالية ثم اجب عن الأسئلة التي تليها :

(يعمل أحمد في إحدى الشركات ويتقاضى أجراً شهرياً قدره ألف (١٠٠٠) ريالاً عمانياً ، ويقوم باستقطاع مئة (١٠٠) ريال عماني من أجره ويضعها في حساب خاص لاستخدامه عند الضرورة . ويقوم بشراء بضاعة بقيمة مئتي (٢٠٠) ريالاً ويبيعها في السوق .

١- المبلغ الذي يدل على الاستثمار (أكمل)

٢- المبلغ الذي يدل على الدخل (أكمل)

٣- المبلغ الذي يدل على الادخار (أكمل)

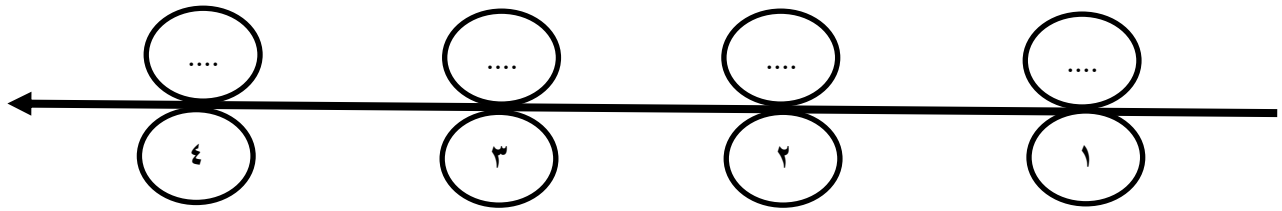
المادة : الدراسات الاجتماعية الصف : السابع - الدور الأول - الفصل الدراسي الأول - الفترة الصباحية
العام الدراسي ٢٠٢٣/٢٠٢٤م

٦

السؤال الرابع : أجب عن الأسئلة التالية :

أولاً : رتب الأحداث التاريخية التالية ترتيباً صحيحاً وذلك بوضع الرموز الصحيحة على المسطرة الزمنية أدناه .

- (أ) عرف الإنسان الزراعة واستأنس الحيوانات .
(ب) بدأ الإنسان باستخدام النقود .
(ج) اعتمد الإنسان في غذائه على جمع ثمار الأشجار وصيد الحيوانات .
(د) استخدم الإنسان معدن البرونز في صناعة أدواته وأسلحته .



ثانياً : اذكر مثلاً على صحة العبارات التالية :

(١) استخدام اللبن كمطهر قديماً .

.....

(٢) اسهامات السلطنة في الحد من الهجرة من الريف إلى المدن .

.....

ثالثاً : انظر إلى الصورة أدناه ثم اجب عن الأسئلة .



(١) توضح الصورة أحد الممتلكات العامة التي تشرف عليها الدولة هي

(٢) ما دورك كطالب في المحافظة على المؤسسة الموضحة في الصورة؟

.....

.....

المادة : الدراسات الاجتماعية الصف : السابع - الدور الأول - الفصل الدراسي الأول - الفترة الصباحية
العام الدراسي ٢٠٢٣/٢٠٢٤م

٦

السؤال الخامس : أجب عن الأسئلة التالية :

أولاً : اكتب اسم المفهوم / المصطلح الدال على كل عبارة من العبارات التالية :

المفهوم / المصطلح	العبارة
.....	الوعي بقواعد المرور والسلوك الصحيح في تطبيقها
.....	عدد السنوات التي يعيشها الفرد الواحد

ثانياً : أذكر اثنين من نتائج الابتعاد عن التدخين .

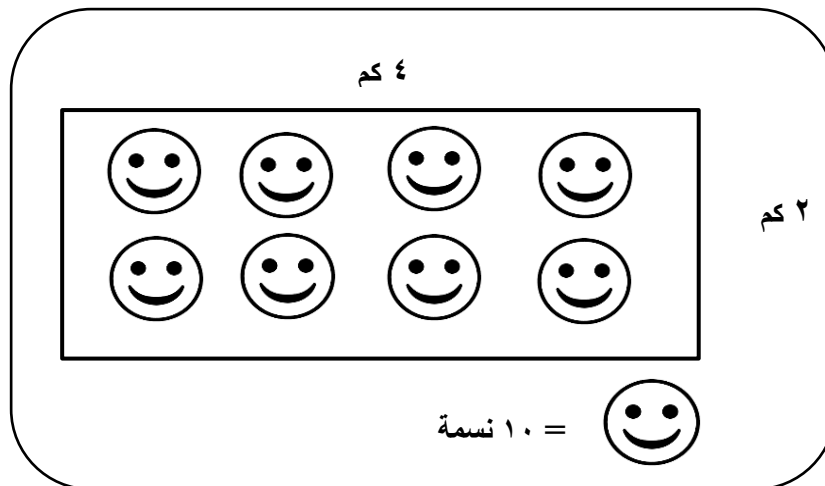
(١)

.....

(٢)

.....

ثالثاً : انظر إلى الشكل التالي ثم اجب عن الأسئلة التي تليه :



١) احسب الكثافة السكانية للمدينة أعلاه .

.....

٢) يفضل الإنسان العيش في المناطق :

() الجبلية () السهلية

. اختر الإجابة الصحيحة بوضع علامة (√)

. علل اجابتك .

.....

انتهت الأسئلة مع أطيب التمنيات بالتوفيق



نموذج إجابة امتحان الصف السابع
للعام الدراسي ١٤٤٥ هـ - ٢٠٢٣/٢٠٢٤
الدور الأول - الفصل الدراسي الأول - الفترة الصباحية

الدرجة الكلية: (٤٠) درجة.

المادة: الدراسات الاجتماعية
تنبيهه: نموذج الإجابة في (٥) صفحات.

أولاً: إجابة السؤال الموضوعي:

إجابة السؤال الأول

المفردة	البديل الصحيح	الإجابة	الدرجة	الصفحة	المستوى المعرفي
١	ب	صورة القلعة	١	٨٨	فهم وتطبيق
٢	ج	٢٠٢٤	١	٤٢	فهم تطبيق
٣	أ	السومرية	١	٢٦	معرفة
٤	ج	النفط	١	٦٨	معرفة
٥	د	الحجري القديم	١	١٦	قدرات
٦	ب	من ٦٤-١٥	١	٤٧	معرفة
٧	د		١	٣٥	قدرات
٨	أ	السرعة	١	٩٣	فهم وتطبيق
٩	أ	تجنب التدخين	١	٧٩	فهم وتطبيق
		ممارسة الرياضة بانتظام			
		تناول وجبة الإفطار			
		تجنب المشروبات الغازية			
١٠	د	اليمن الخضراء	١	٣٦	معرفة
١١	ب	٤٦٠٠	١	٥٥	فهم وتطبيق
١٢	ج	دائمة/مؤقتة	١	٥٦	معرفة
المجموع			١٢ درجة		

يتبع/٢

تابع نموذج إجابة امتحان الصف السابع
للعام الدراسي ١٤٤٥ هـ - ٢٠٢٣/٢٠٢٤ م
الدور الأول - الفصل الدراسي الأول - الفترة الصباحية
المادة : الدراسات الاجتماعية

ثانيا: إجابة الأسئلة المقالية:

الدرجة الكلية: (٨) درجات				إجابة السؤال الثاني		
المستوى المعرفي	الصفحة	الدرجة	الإجابة الصحيحة	المفردة	الجزئية	
معرفة	٣٨	نصف درجة	سبأ	١	أولا	
معرفة	٣٨	نصف درجة	سد مأرب	٢		
معرفة	٣٩	نصف درجة	بلقيس	٣		
معرفة	٤٠	نصف درجة	بلاد فارس	٤		
معرفة	٤٨	١	ثلاث فئات	١	ثانيا	
فهم وتطبيق	٤٩	١	ب	٢		
فهم وتطبيق	٤٩+٤٨	١	أ	٣		
فهم وتطبيق	٣٥-٣١	٣ درجات لكل إجابة صحيحة نصف درجة	حضارة أم النار	حضارة دلمون	ثالثا	
			١	٢		
			٤	٣		
			٥	٦		
		٨ درجات	المجموع			

تابع نموذج إجابة امتحان الصف السابع
للعام الدراسي ١٤٤٥ هـ - ٢٠٢٣/٢٠٢٤ م
الدور الأول - الفصل الدراسي الأول - الفترة الصباحية
المادة : الدراسات الاجتماعية

تابع ثانيا: إجابة الأسئلة المقالية:

إجابة السؤال الثالث					الدرجة الكلية: (٨) درجات	
الجزئية	المفردة	الإجابة الصحيحة	الدرجة	الصفحة	المستوى المعرفي	
أولا	أ	ضعف القدرة على العمل	١	٦٩	قدرات	
	ب	انخفاض الدخل	١			
	ج	ضعف فرص الادخار	١			
ثانيا	١	وضع العلامة على محافظة ظفار 	نصف درجة	٢٩	قدرات	
	٢	وضع العلامة على محافظة الداخلية 	نصف درجة	٢٥	قدرات	
	٣	١	نصف درجة	٢٨	فهم وتطبيق	
	٤	٣	نصف درجة	٢٥	فهم وتطبيق	
ثالثا	١	٢٠٠ ريال	١	٧٧-٧٤	فهم وتطبيق	
	٢	١٠٠٠ ريال	١		فهم وتطبيق	
	٣	١٠٠ ريال	١		فهم وتطبيق	
المجموع			٨ درجات			

يتبع /٤

تابع نموذج إجابة امتحان الصف السابع
للعام الدراسي ١٤٤٥ هـ - ٢٠٢٣/٢٠٢٤ م
الدور الأول - الفصل الدراسي الأول - الفترة الصباحية
المادة : الدراسات الاجتماعية

تابع ثانيا: إجابة الأسئلة المقالية:

الدرجة الكلية: (٦) درجات				إجابة السؤال الرابع	
الجزئية	المفردة	الإجابة الصحيحة	الدرجة	الصفحة	المستوى المعرفي
أولا			درجتان لكل ترتيب صحيح نصف درجة	١٨-١٤	قدرات
ثانيا	١	أن النبي موسى عليه السلام طلب من أخيه هارون أن يحمل مبخرا لتبخير المصلين باللبان أيام انتشار مرض الطاعون (أو ما يفيد المعنى- يراعى أسلوب الطالب في التعبير)	١	٣٠	معرفة
	٢	إقامة المشاريع التنموية والاقتصادية والاجتماعية والصحية في جميع المحافظات (أو ما يفيد المعنى- يراعى أسلوب الطالب في التعبير)	١	٥٧	معرفة
ثالثا	١	مدرسة	١	٨٦	معرفة
	٢	المحافظة على نظافتها وعلى سلامة الأدوات الموجودة بها . (أو ما يفيد المعنى)	١	٨٦	قدرات
المجموع			٦ درجات		

تابع نموذج إجابة امتحان الصف السابع
للعام الدراسي ١٤٤٥ هـ - ٢٠٢٣/٢٠٢٤ م
الدور الأول - الفصل الدراسي الأول - الفترة الصباحية
المادة : الدراسات الاجتماعية

الدرجة الكلية: (٦) درجات				إجابة السؤال الخامس	
المستوى المعرفي	الصفحة	الدرجة	الإجابة الصحيحة	المفردة	الجزئية
معرفة	٩١	١	التوعية المرورية	١	أولا
معرفة	٥٥	١	أمد الحياة	٢	
معرفة	٨٢	درجتان لكل إجابة صحيحة درجة	١- المحافظة على صحة الفرد ٢- بيئة خالية من التلوث ٣- توفير الأموال ٤- زيادة القدرة على الإنتاج ٥- زيادة اللياقة الجسمية ٦- حياة أطول (أو ما يفيد المعنى- يراعى أسلوب الطالب في التعبير)		ثانيا
قدرات	٦٤	١	$٨٠ \div ١٠ = ٨$ نسمة/كم ^٢	١	ثالثا
فهم وتطبيق	٦١	درجة نصف درجة للإجابة الصحيحة نصف درجة للتعليل	(√) السهلية لسهولة الوصول إليها ، وملاءمتها لبناء المسكن وقيام الزراعة (أو ما يفيد المعنى)	٢	
		٦ درجات	المجموع		
	٤٠ درجة		المجموع النهائي		



امتحان مادة : الدراسات الاجتماعية
 للصف : السابع الأساسي
 للعام الدراسي ١٤٤٥ هـ - ٢٠٢٣/٢٠٢٤ م
 الدور الثاني - الفصل الدراسي الأول

- زمن الامتحان : (ساعة ونصف) ● عدد صفحات أسئلة الامتحان : (٨) صفحات.
- الإجابة في دفتر نفسه .

		اسم الطالب
الصف		المدرسة

التوقيع بالاسم		الدرجة		السؤال
المصحح الثاني	المصحح الأول	بالحروف	بالأرقام	
				١
				٢
				٣
				٤
				٥
مراجعة الجمع	جمعه			المجموع
				المجموع الكلي

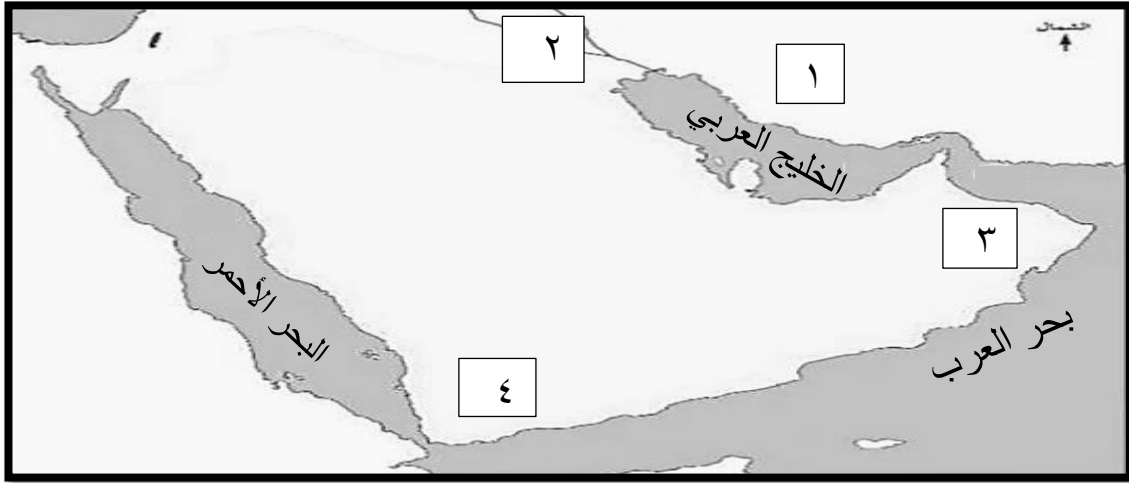
المادة: الدراسات الاجتماعية الصف: السابع الأساسي الدور: الثاني
الفصل الدراسي الأول / العام الدراسي ٢٠٢٣/٢٠٢٤م

أجب عن جميع الأسئلة الآتية

١٢

السؤال الأول: ضع دائرة حول رمز الإجابة الصحيحة لكل مفردة من المفردات الآتية:

- ١- العصر الذي بدأ فيه الإنسان العماني بالتعبير عن ذاته بالرسم على جدران الكهوف:
أ- العصر الحديدي
ب- العصر الحجري الأعلى
ج- العصر الحجري القديم
د- العصر البرونزي
- ٢- الجدول الصحيح الذي يوضح مراكز الحضارات القديمة في الخريطة التالية:



الرقم	اسم الحضارة
١	بلاد الرافدين
٢	بلاد فارس
٣	مجان
٤	اليمن

الرقم	اسم الحضارة
١	بلاد فارس
٢	اليمن
٣	بلاد الرافدين
٤	مجان

الرقم	اسم الحضارة
١	مجان
٢	اليمن
٣	بلاد فارس
٤	بلاد الرافدين

الرقم	اسم الحضارة
١	بلاد فارس
٢	بلاد الرافدين
٣	مجان
٤	اليمن



- ٣- الصورة المقابلة توضح مقبرة تاريخية يطلق عليها اسم:
أ- مقبرة عالي
ب- مقبرة بات
ج- مقبرة أم النار
د- مقبرة كولي

المادة: الدراسات الاجتماعية الصف: السابع الأساسي الدور: الثاني
الفصل الدراسي الأول / العام الدراسي ٢٠٢٣/٢٠٢٤ م

تابع السؤال الأول:

٤- البطاقة التعريفية التي تصف دولة معين في اليمن هي:

ب- نشأت في وادي بيحان
عاصمتها تمنع
عملوا بالزراعة

أ- نشأت في وادي الجوف
عاصمتها قرناو
عملوا بالزراعة والتجارة

د- نشأت في جنوب اليمن
سيطرة على دولة سبأ
أهملوا الاهتمام بسد

ج- نشأت في منطقة مأرب
عاصمتها مأرب
اشتهروا ببناء السدود

٥- يطلق على زيادة عدد السكان بصورة كبيرة تفوق الزيادة في الموارد الطبيعية ب:

ب- الانفجار السكاني

أ- الزيادة الطبيعية


د- التعداد

ج- أمد الحياة

٦- شكل الهرم السكاني الذي يمثل توزيع سكان سلطنة عمان حسب تعداد ١٩٩٣ م:



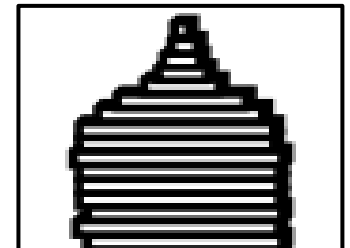
ب-



أ-



د-



ج-

٧- من أهم العوامل التي تؤثر في حجم السكان ونموهم:

ب- الهجرة الداخلية

أ- أمد الحياة


د- الوفيات

ج- الهجرة الخارجية

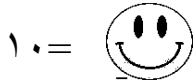
المادة : الدراسات الاجتماعية الصف : السابع الأساسي الدور : الثاني
الفصل الدراسي الأول / العام الدراسي ٢٠٢٣ / ٢٠٢٤ م

تابع السؤال الأول:

٣ سم



٢ سم



١٠ =

٨- الكثافة السكانية للمدينة في الشكل المقابل هي ... نسمة / كم^٢:

أ- ١٠

ب- ٥

ج- ٢٠

د- ٦

٩- تعتبر من الموارد الطبيعية المتجددة:

أ- الغاز الطبيعي

ب- النفط

ج- الماء

د- المعادن

١٠- من مقومات الصحة الجيدة:

أ- تجنب الوجبات الغذائية السريعة

ب- عدم ممارسة الرياضة

ج- تناول المشروبات الغازية

د- تناول الأغذية بشكل غير متوازن

١١- من الممتلكات العامة:

أ- صالة رياضية

ب- محل تجاري

ج- المنازل

د- المعالم الأثرية

١٢- أكثر الأسباب المؤدية للحوادث حسب إحصائيات شرطة المرور لعام ٢٠١٠ م كما يوضحها الجدول أمامك:

أسباب الحوادث	عدد الحوادث
السرعة	٣٧٤٤
الإهمال	٦١٥
الإرهاق	١٨
تعاطي المسكرات	١٧٢

ب- السرعة

أ- الإهمال

د- تعاطي المسكرات

ج- الإرهاق

المادة: الدراسات الاجتماعية الصف: السابع الأساسي الدور: الثاني
الفصل الدراسي الأول / العام الدراسي ٢٠٢٣ / ٢٠٢٤ م

السؤال الثاني:

أولاً: أجب عن الأسئلة التالية:

١- اذكر اثنين من الإنجازات التي توصل إليها الإنسان في العصر البرونزي.

-
-

٢- اذكر سبباً واحداً في كل مما يلي:

أ- كانت حضارة مجان تصدر النحاس وحجر الديوريت عن طريق حضارة دلمون.

.....

ب- تسمية اليونان لليمن (بلاد العرب السعيدة).

.....

ثانياً:

(تمكن الإنسان العماني في العصر الحجري الحديث من التوصل إلى تقنية صهر النحاس، ونتيجة لذلك ظهرت صناعة الأسلحة والحلي بصورة متطورة عن السابق. أما بالنسبة للتجمعات السكانية في تلك الفترة فقد دلت الحفريات على معرفة الإنسان لزراعة النخيل بدليل وجود بعض الثمار المتحجرة في مواقع الحفر.)

١- من خلال النص السابق أجب عن الأسئلة التالية:

أ- ما النتيجة المترتبة على اكتشاف النحاس في العصر الحجري الحديث؟

.....

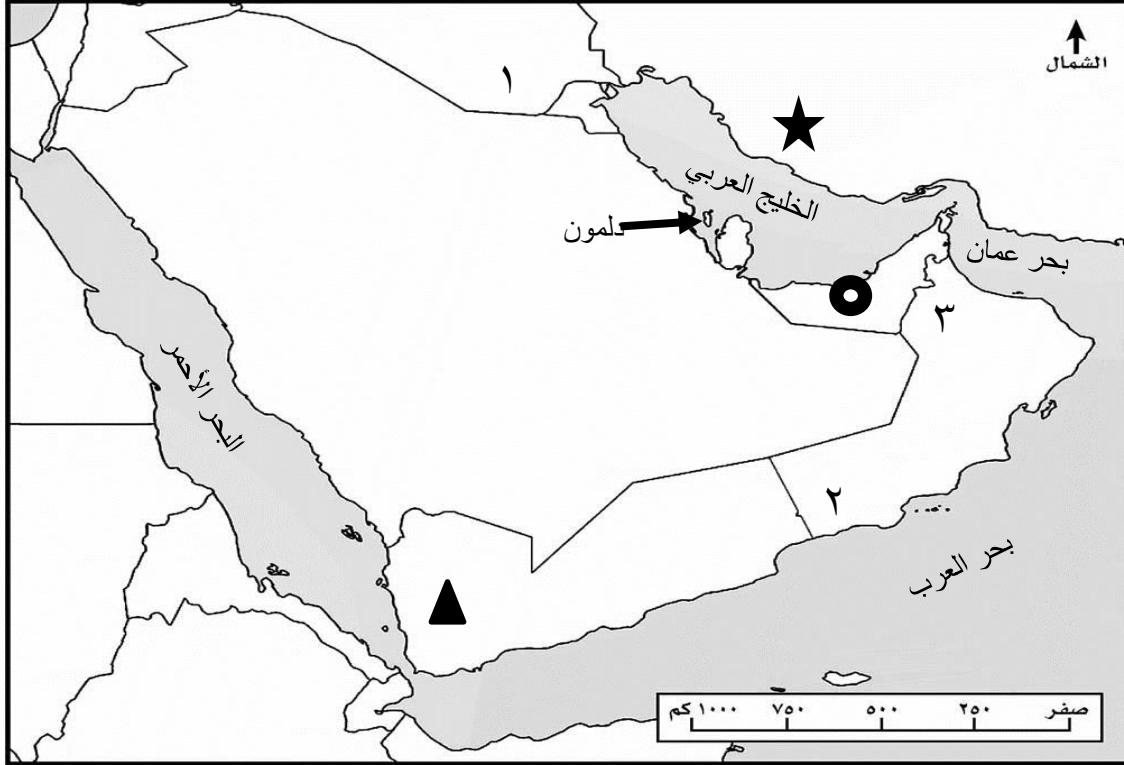
ب- دلل على اهتمام الانسان العماني القديم بزراعة النخيل.

.....

المادة : الدراسات الاجتماعية الصف : السابع الأساسي الدور : الثاني
الفصل الدراسي الأول / العام الدراسي ٢٠٢٣ / ٢٠٢٤ م

تابع السؤال الثاني:

ثالثا: ادرس الخريطة ثم أجب عن الأسئلة التالية:



١- انقل الرمز الصحيح من الخريطة أمام كل حضارة في الجدول التالي:

الرمز	الحضارة
	حضارة مزدهرة على شواطئ الخليج العربي تقع شرق حضارة دلمون
	حضارة تقع في أقصى الجنوب الغربي من شبه الجزيرة العربية

٢- استخرج من الخريطة الرقم الدال على الموقع الصحيح للصور التالية:



()



()

المادة : الدراسات الاجتماعية الصف : السابع الأساسي الدور : الثاني
الفصل الدراسي الأول / العام الدراسي ٢٠٢٣ / ٢٠٢٤ م

السؤال الثالث:

٨

أولاً: ١- اكتب المفهوم الدال على العبارات التالية :

أ- عدد السنوات التي يعيشها الفرد الواحد
ب- انتقال السكان من مكان لآخر ولو لفترة محددة

٢- اذكر سببين لنقص الغذاء في العالم.

أ-
ب-

ثانياً: ١- أكمل الشكل التالي:

من مصادر دراسة السكان

.....

.....

٢-فسر: ظهور مشكلة البطالة والضغط على الخدمات في المجتمعات الفقيرة.

ثالثاً: الجدول يوضح عدد السكان والمساحة لبعض محافظات سلطنة عمان لعام (٢٠١٠م):

المحافظة	إجمالي السكان	المساحة/كم ^٢
مسقط	٧٧٥,٨٧٨	٣,٥٠٠
ظفار	٢٤٩,٧٢٩	٩٩,٣٠٠
الداخلية	٣٢٦,٦٥١	٣١,٩٠٠
الشرقية	٣٥٠,٥١٤	٣٦,٨٠٠
الباطنة	٧٧٢,٥٩٠	١٢,٥٠٠
مسندم	٣١,٤٢٥	١,٨٠٠
الوسطى	٤٢,١١١	٧٩,٧٠٠

١- استخراج من الجدول ما يلي:

أ- المحافظة التي تمثل أقل عدد للسكان

.....

ب- المحافظة التي تمثل أكبر مساحة

.....

٢- برأيك ما العوامل البشرية التي ساهمت في تركيز السكان بمحافظة مسقط

.....

.....

السؤال الرابع:

٦

أولاً: ١- اقرأ النص التالي ثم أجب عن الأسئلة التالية:


(أحمد أب لثلاثة أطفال، يعمل مهندس براتب شهري قدره (٥٠٠ ريال) ، وتعمل زوجته معلمه براتب شهري وقدره (٨٠٠ ريال) أ- احسب مقدار الدخل السنوي لأسرة أحمد.

.....

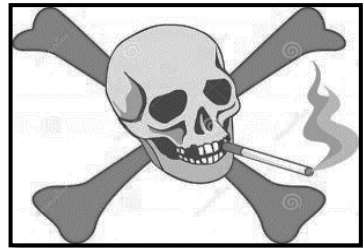
ب- اقترح على أحمد فكرة مشروع تزيد من دخله.

.....

ثانياً: ١- ادرس الصور جيداً ثم أجب عن الأسئلة التالية:



٢



١

أ- ما نصيحتك للطفل في الصورة رقم (٢)؟

.....

ب- اذكر الأضرار المترتبة على السلوك الذي توضحه الصورة (١)؟

.....

٢- عدد اثنين لكل من:

أ- أهمية الغابات باعتبارها من الممتلكات العامة.

.....

ب- أخلاقيات السائق.

.....

المادة : الدراسات الاجتماعية الصف : السابع الأساسي الدور : الثاني
 الفصل الدراسي الأول / العام الدراسي ٢٠٢٣ / ٢٠٢٤ م

السؤال الخامس:

أولاً: ١- علل ما يلي:

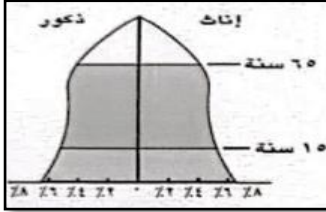
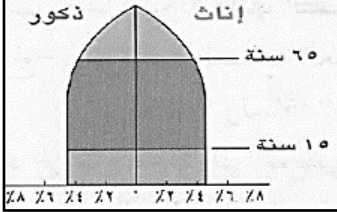
أ- ظهور المدن التجارية في العصر الحديدي.

.....

ب- زيادة معدلات المواليد في المجتمعات الزراعية.

.....

٢- قارن بين الأهرام السكانية التالية في الجدول:

		الهرم
		المقارنة
		نوع الهرم السكاني
		مميزات الهرم السكاني

ثانياً:

١- اقرأ العبارة جيداً ثم أجب عن الأسئلة التالية:

(توفر وزارة التربية والتعليم لطلبة المدارس المقاعد الصحية للجلوس عليها داخل
 غرف صفية مزودة بالمكيفات، وبين أيديهم الكتب الدراسية المقررة.)

أ- شاهدت زميلاً لك يعبث بأثاث المدرسة، ما موقفك من هذا السلوك؟

.....

ب- اقترح حلاً للحد من هذا السلوك في المدرسة.

.....

انتهت الأسئلة مع الدعاء للجميع بالتوفيق والنجاح.

نموذج إجابة امتحان الصف السابع / الدور الثاني - الفصل الدراسي الأول
للعام الدراسي ١٤٤٥ هـ - ٢٠٢٣/٢٠٢٤ م

المادة: الدراسات الاجتماعية
تنبيه: نموذج الإجابة في (٥) صفحات.
الدرجة الكلية: (٤٠) درجة.

أولاً: إجابة السؤال الموضوعي:

المستوى المعرفي	الصفحة	الدرجة	الإجابة	البديل الصحيح	المفردة	
تذكر	٢٢	١	العصر الحجري الأعلى	ب	١	
فهم وتطبيق	١٩	١	الرقم	ج	٢	
			اسم الحضارة			
			١			بلاد فارس
			٢			بلاد الرافدين
			٣			مجان
٤	اليمن					
فهم وتطبيق	٣٢	١	مقبرة عالي	أ	٣	
قدرات عليا	٣٧	١	<p>- نشأت في وادي الجوف - عاصمتها قرناو - عملوا بالزراعة والتجارة</p>	أ	٤	
تذكر	٤٤	١	الانفجار السكاني	ب	٥	
فهم وتطبيق	٤٩	١		أ	٦	
فهم	٥٣	١	الوفيات	د	٧	
قدرات عليا	٦٤	١	٥ نسمة/كم ^٢	ب	٨	
تذكر	٦٨	١	الماء	ج	٩	
تذكر	٧٩	١	تجنب الوجبات الغذائية السريعة	أ	١٠	
تذكر	٨٤	١	المعالم الأثرية	د	١١	
فهم وتطبيق	٩٣	١	السرعة	ب	١٢	
١٢ درجة			المجموع			

(٢)

تابع نموذج إجابة امتحان الصف السابع
للعام الدراسي ١٤٤٥ هـ - ٢٠٢٣/٢٠٢٤ م
الدور الثاني - الفصل الدراسي الأول
المادة : الدراسات الاجتماعية

الدرجة الكلية: (٨) درجات			إجابة السؤال الثاني		
المستوى المعرفي	الصفحة	الدرجة	الإجابة الصحيحة	المفردة	الجزئية
معرفة	١٨	درجتان لكل مفردة درجة	معرفة البرونز-استخدام الكتابة-استخدام الطوب في البناء-استخدام الأثاث الخشبي-تقدم عدد من العلوم مثل الحساب والهندسة والطب والفلك (يكتفى بذكر اثنين)	١	أولا
معرفة	٢٦	درجة	أ-بسبب ارتباط دلمون ومجان في المجال الاقتصادي، وتقاربهما حيث لا تفصل بينهما حواجز أو موانع كبيرة	٢	
معرفة	٣٦	درجة	ب- لأهمية موقع اليمن وخصوبة تربتها وامطارها الموسمية الصيفية		
قدرات عليا	٢٣	درجة	أ- ظهرت صناعة الأسلحة والحلي بصورة متطورة عن السابق	١	ثانيا
قدرات عليا	٢٣	درجة	ب - وجود بعض الثمار المتحجرة في مواقع الحفر		
فهم وتطبيق	٣٥	درجة لكل رمز نصف	الحضارة	رمز	١
		درجة	حضارة مزدهرة على شواطئ الخليج العربي تقع شرق حضارة دلمون	○	
	٣٦	درجة	حضارة تقع في أقصى الجنوب الغربي من شبه الجزيرة العربية	▲	ثالثا
فهم وتطبيق	٢٩	درجة لكل صورة نصف درجة			٢
	٢٥		٣	٢	

(٣)

تابع نموذج إجابة امتحان الصف السابع
للعام الدراسي ١٤٤٥ هـ - ٢٠٢٣/٢٠٢٤ م
الدور الثاني - الفصل الدراسي الأول
المادة : الدراسات الاجتماعية

إجابة السؤال الثالث				
الدرجة الكلية: (٨) درجات				
الجزئية	المفردة	الإجابة الصحيحة	الدرجة	الصفحة
أولاً	١	أ- أمد الحياة ب- الهجرة	درجتان لكل مفردة درجة	٥٥ ٥٦
	٢	-ارتفاع مستوى المعيشة-الزيادة السكانية-التقنيات الزراعية التقليدية-قلة الوعي الغذائي- الظروف السياسية والاقتصادية- الفاقد الغذائي بسبب الحشرات والامراض-التقلبات المناخية- التلوث البيئي (يكتفى بذكر اثنين)	درجتان لكل مفردة درجة	٧٠
ثانياً	١	التعداد -الإحصاءات الحيوية وسجلات الهجرة	درجة لكل مفردة نصف	-٤٢ ٤٣
	٢	بسبب النمو السكاني السريع في هذه المجتمعات الذي لا يوازي التطور الاجتماعي والاقتصادي	درجة	٦٧
ثالثاً	١	أ- مسندم ب- ظفار	درجة لكل مفردة نصف	٦٥
	٢	الأنشطة الاقتصادية -الهجرة - وسائل النقل (يكتفى بذكر واحدة)	درجة	٦٢

يتبع /٤

(٤)

تابع نموذج إجابة امتحان الصف السابع
للعام الدراسي ١٤٤٥هـ - ٢٠٢٣/٢٠٢٤م
الدور الثاني - الفصل الدراسي الأول
المادة: الدراسات الاجتماعية

الدرجة الكلية: (٦) درجات				إجابة السؤال الرابع	
المستوى المعرفي	الصفحة	الدرجة	الإجابة الصحيحة	المفردة	الجزئية
فهم وتطبيق	٧٦	درجة	أ- الدخل السنوي لأسرة أحمد $٨٠٠ + ٥٠٠ = ١٣٠٠$ ريال $١٢ \times ١٣٠٠ = ١٥,٦٠٠$ ريال (يعطى الطالب نصف درجة اذا حل جزء من السؤال)	١	أولاً
فهم وتطبيق	٧٦	درجة	ب- انشاء محل مواد غذائية - إنشاء مزرعة دواجن (أو أي مشروع ربحي يذكره الطالب)		
فهم وتطبيق	٧٩	درجة	أ- تجنب الوجبات المليئة بالدهون والسريعة لأنها من مسببات السمنة (أو أي نصيحة مناسبة)	١	
فهم وتطبيق	٨٠	درجة	ب- أمراض خطيرة ومزمنة مثل ضيق التنفس-سرطان الرئة -هدر أموال المدخن ووقته (يكتفى بذكر واحد)		
تذكر	٨٨	درجة لكل مفردة نصف	أ- حفظ مياه الأمطار من التبخر- مناطق جذب سياحي _ تحسين الطقس (يكتفى بذكر اثنين)	٢	ثانياً
تذكر	٩١	درجة لكل مفردة نصف	ب- الالتزام بالقوانين والأنظمة والتعليمات - التوازن وهدوء الأعصاب - التعاون - الصدق والأمانة (يكتفى بذكر اثنين)		

(٥)

تابع نموذج إجابة امتحان الصف السابع
للعام الدراسي ١٤٤٥هـ - ٢٠٢٣/٢٠٢٤م
الدور الثاني-الفصل الدراسي الأول
المادة: الدراسات الاجتماعية

الدرجة الكلية: (٦) درجات			إجابة السؤال الخامس				
المستوى المعرفي	الصفحة	الدرجة	الإجابة الصحيحة		المفردة	الجزئية	
فهم	١٨	درجة	أ- بسبب استخدام الإنسان للنقود بدلا من نظام المقايضة في العصر الحديدي		١		
فهم	٥٢	درجه	ب- لأن الأسرة تقوم بالزراعة فتحتاج إلى توفير اليد العاملة عن طريق أفرادها				
فهم وتطبيق	٤٨	درجتان لكل مفردة نصف درجة			المقارنة	٢	أولا
			هرم ذو قاعدة متوسطة	هرم ذو قاعدة ضيقة	نوع الهرم		
			يمثل المجتمع الذي تزيد فيه نسبة متوسطي السن	يمثل المجتمع المسن الذي تتخفف فيه نسبة صغار السن	مميزات الهرم السكاني		
قدرات عليا	٨٧	درجة	أ- أنصحه بالمحافظة على أثاث المدرسة لأنه من الممتلكات العامة. (أي إجابته بأسلوب الطالب وتكون مناسبة)		١	ثانيا	
قدرات عليا	٨٧	درجة	ب- إعداد برنامج إذاعي / أو تصميم لوحة ورقه / أو مطويه للتوعية بأهمية المحافظة على الممتلكات العامة في المدرسة. (أي إجابته بأسلوب الطالب وتكون مناسبة)				

نهاية نموذج الإجابة



المديرية العامة للتربية و التعليم لمحافظة الظاهرة

امتحان مادة: الدراسات الاجتماعية

للسف: السابع

للعام الدراسي ١٤٤٥ هـ - ٢٠٢٣/٢٠٢٤ م

الدور الأول - الفصل الدراسي الأول

● زمن الامتحان: (ساعة ونصف) ● عدد صفحات أسئلة الامتحان: (٦) صفحات.

● الإجابة في الدفتر نفسه.

			اسم الطالب
	الصف		المدرسة

التوقيع بالاسم		الدرجة		السؤال
المصحح الثاني	المصحح الأول	بالحروف	بالأرقام	
				١
				٢
				٣
				٤
				٥
مراجعة الجمع	جمعه			المجموع
				المجموع الكلي

أجب عن جميع الأسئلة الآتية

السؤال الأول: (١٢ درجة)

ضع دائرة حول رمز الإجابة الصحيحة لكل مفردة من المفردات الآتية:

١٢

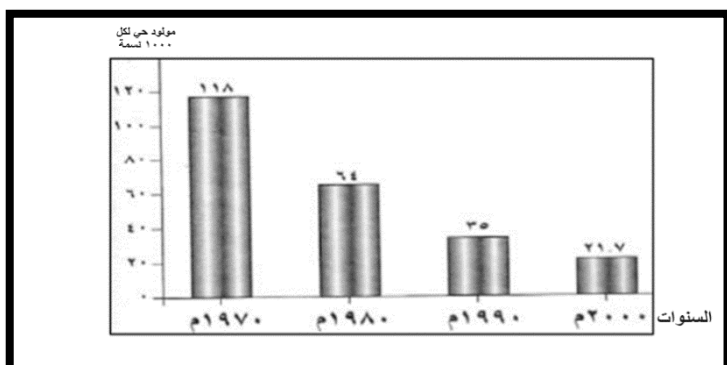
- ١- تمكن الانسان قديما من إنتاج معدن البرونز عندما قام بمزج معدن النحاس مع معدن:
 أ-الكروم ب- الحديد ج- القصدير د- النيكل
- ٢- بلغ عدد مواقع صهر النحاس التي تم اكتشافها في سلطنة عمان:
 أ- ٣١ ب- ٣٢ ج- ٣٣ د- ٣٤
- ٣- الشكل المقابل يدل على معلم حضاري يستخدم في المهمات الرسمية تميزت به حضارة:



- أ- مجان ب- أم النار
 ج- دلمون د- اليمن

- ٤- تمكنت دولة سبأ من توحيد معظم مناطق اليمن في دولة واحدة في القرن:
 أ - السادس ق.م ب- السابع ق.م ج- الثامن ق.م د- التاسع ق.م
- ٥- عندما تقوم بحساب نسبة الإعالة في أسرتك فإن هذا يصنف ضمن البنية:
 أ - العمرية ب- النوعية ج- الثقافية د- الاجتماعية

- ٦- السنة الميلادية التي انخفضت فيها معدلات وفيات المواليد عن (٣٠) حالة وفاة لكل (١٠٠٠) مولود حي في سلطنة عمان كما هو موضح بالشكل:



- أ- ١٩٧٠ م ب- ١٩٨٠ م
 ج- ١٩٩٠ م د- ٢٠٠٠ م

- ٧- يتم الاحتفال سنويا باليوم العالمي للغذاء في السادس عشر من شهر:

- أ- اغسطس ب- سبتمبر ج- أكتوبر د- نوفمبر

تابع السؤال الأول:

٨- حصل خالد على منحه دراسية لمدة أربعة أعوام إلى الولايات المتحدة الأمريكية حيث تعد هجرة خالد أحد أنواع الهجرة:

أ-الداخلية ب- الدائمة ج- الخارجية د- الإجبارية

٩- الرقم الذي يشير إلى المحافظة الأكثر سكاناً من بين الأرقام المعطاة على الخريطة التي أمامك :



أ- ١ ب- ٢
ج- ٣ د- ٤

١٠- يطلق على توفير أموال تساعد الأسرة على الإنفاق وقت الضرورة مصطلح:

أ- الادخار ب- الاستثمار ج- الاستهلاك د- الدخل

١١- جميع مما يلي من مقومات الصحة الجيدة ما عدا:

أ- تناول أطعمة متوازنة ب- تجنب الوجبات السريعة
ج- الإكثار من المشروبات الغازية د- تناول وجبة الإفطار

١٢- الصورة التي تدل على معبر المشاة:



(د)



(ج)



(ب)



(أ)

السؤال الثاني: (٨ درجات)

٨

أولاً: - اكتب مقابل كل عبارة من العبارات الواردة في الجدول التالي المفهوم الدال عليها.

المفهوم	العبارة
.....	١ - كل ما تملكه الدولة وتشرف عليه وترعاه من النواحي الادرية والمالية والقانونية.
.....	أ- هي الفرق بين أعداد المواليد وأعداد الوفيات للسكان في مجتمع ما وفي فترة محددة.

ثانياً:

١ - فسر تعد الآثار من أهم الممتلكات العامة للدولة.

.....

٢ - رتب الأحداث التاريخية من الأقدم إلى الأحدث بكتابة الأرقام (١-٢-٣) فيما يلي:

() زراعة الأرض

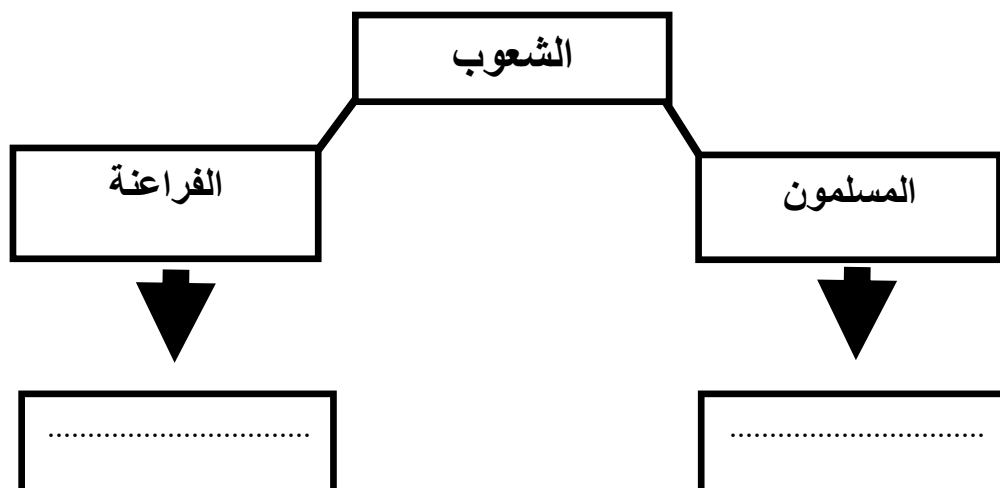
() اكتشاف النار

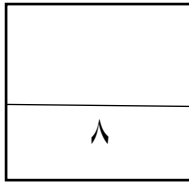
() استخدام النقود

ثالثاً: أكمل المخطط التالي الذي يوضح استخدامات اللبان عند بعض الشعوب قديماً باختيار المناسب من بين

القوسين:

(تحنيط جثث الموتى - مطهر وعلاج الربو)





السؤال الثالث: (٨ درجات)

أولاً: أنظر إلى الخريطة التي أمامك، ثم أجب عن الأسئلة التي تليها:



١- وضح السبب الرئيسي لتركز السكان في المنطقة المشار إليه بالرقم (١)

٢- ما نوع الكثافة السكانية في المنطقة المشار بالرمز (★) (

٣- ظلل على الخريطة أقل قارات العالم سكاناً.

٤- البحر الذي يشير إليه الرقم (٣) في الخريطة

ثانياً: - في ضوء العبارة التالية أجب عن الآتي.

"تعد مشكلة الغذاء من أهم المشكلات السكانية المعاصرة وقد نتج عنها العديد من المشكلات الخطيرة مثل مشكلة الجوع وسوء التغذية وهناك عدة أسباب لنقص الغذاء العالمي...."

١- أذكر اثنين من أسباب نقص الغذاء العالمي؟

أ-.....

ب-.....

٢- اقترح حلاً واحداً لمشكلة الغذاء.

٣- محمد يفتقر غذاءه للعناصر الغذائية المطلوبة لجسمه فهو يعاني من:

مشكلة الجوع سوء التغذية (ضع علامة (√) في دائرة الاختيار المناسب)

السؤال الرابع: (٦ درجات)

٦

أولاً: -انظر للخريطة المقابلة، ثم أجب عن الأسئلة الآتية.



١- الرقم الذي يشير إلى موقع مقابر بات الأثري.

(.....)

٢- اكتب ميزه واحدة تميزت بها هذه المقابر.

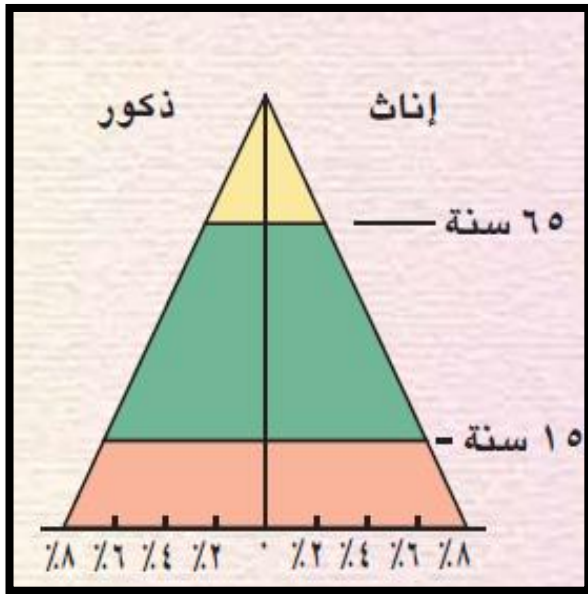
.....

٣- أكتب (بحر العرب) في مكانه الصحيح.

٤- الميناء الذي كان ينقل منه اللبان قديماً

والمشار إليه بالرقم (٣)

ثانياً: -أدرس الشكل المقابل ثم أجب عن الأسئلة الآتية:



١ - ما نوع الهرم السكاني الظاهر في الشكل؟

.....

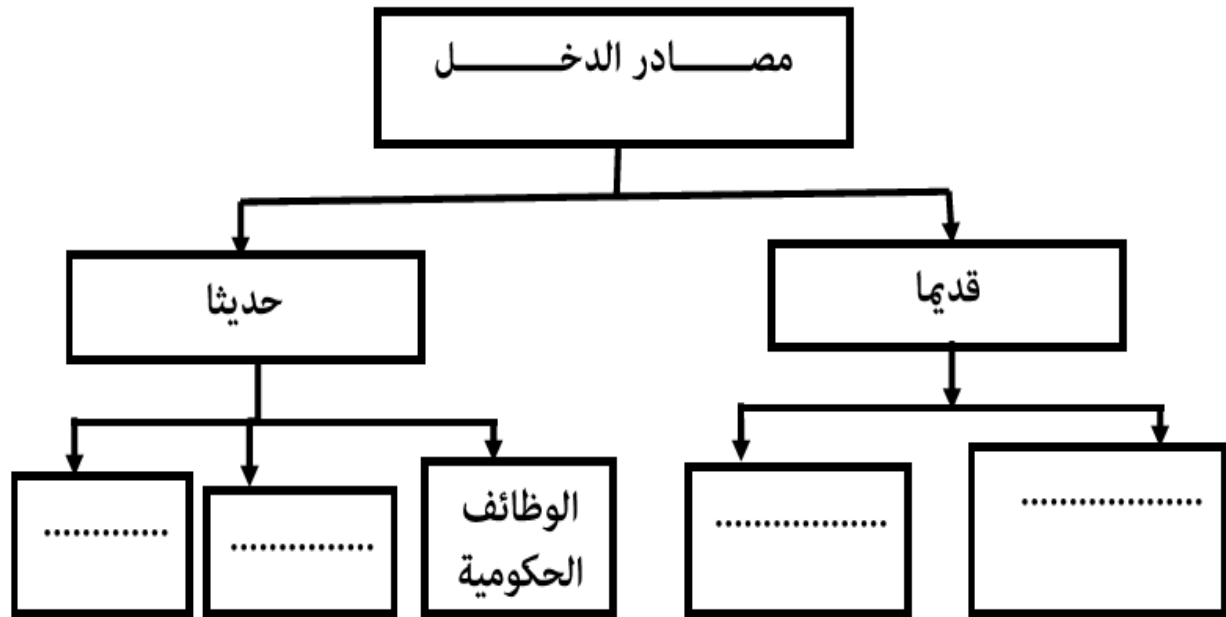
٢ - ظلل على الشكل الفئات غير العاملة في المجتمع .

السؤال الخامس: (٦ درجات)

٦

أولاً: أكمل المخطط الذي يوضح مصادر الدخل قديماً وحديثاً باستخدام المفردات الموجودة بين القوسين.

(الصناعة - تربية الحيوانات - الشركات الخاصة - الزراعة)



ثانياً: أمامك صورة لبعض الممارسات المضرة بالصحة، في ضوء ذلك أجب عن الأسئلة الآتية.



١- يشير الشكل المقابل.

٢- الأمراض الخطيرة الناتجة عن هذه الممارسة:

أ-

ب-

٣- اقترح طرق تساعد على تجنب هذا الممارسة.

.....

انتهت الأسئلة مع الدعاء للجميع بالتوفيق والنجاح.



المديرية العامة للتربية والتعليم بمحافظة الظاهرة

نموذج إجابة امتحان الصف السابع

الدور الأول - الفصل الدراسي الأول - للعام الدراسي ٢٠٢٣/٢٠٢٤م

الدرجة الكلية: (٤٠) درجة

المادة: الدراسات الاجتماعية

تنبيهه: نموذج الإجابة في (٥) صفحات

(١٢ درجة)

أولاً: إجابة السؤال الموضوعي / *السؤال الأول/

المستوى المعرفي	الصفحة	الوحدة	الدرجة	الإجابة	البديل الصحيح	المفردة
المعرفة	١٧	١	١	القصدير	ج	١
المعرفة	٢٣	١	١	٣٢	ب	٢
الفهم والتطبيق	٣٣	١	١	دلمون	ج	٣
المعرفة	٣٨	١	١	السابع ق.م	ب	٤
الفهم والتطبيق	٤٦	٢	١	العمرية	أ	٥
الفهم والتطبيق	٥٤	٢	١	٢٠٠٠م	د	٦
المعرفة	٦٩	٢	١	أكتوبر	ج	٧
الفهم والتطبيق	٥٦	٢	١	خارجية	ج	٨
الفهم والتطبيق	٦٥	٢	١	١	أ	٩
المعرفة	٧٥	٣	١	الادخار	أ	١٠
المعرفة	٧٩	٣	١	الإكثار من المشروبات الغازية	ج	١١
الفهم والتطبيق	٩٠	٣	١	 (د)	د	١٢

(٢)

تابع نموذج إجابة امتحان الصف السابع

الدور الاول للعام الدراسي ٢٠٢٣/٢٠٢٤م

المادة : الدراسات الاجتماعية

(٨ درجات)

*السؤال الثاني:

المستوى المعرفي	الصفحة	الوحدة	الدرجة	الإجابة	المفردة	الجزئية
المعرفة	٨٤	٣	١	الممتلكات العامة	١	أولاً
المعرفة	٥٥	٢	١	الزيادة الطبيعية	٢	
فهم وتطبيق	٨٨	٣	١	تعد شواهد تاريخية على حضارات قامت على أرض الدولة-تعمل على تنشيط السياحة	١	ثانياً
فهم وتطبيق	١٦ ١٧ ١٨	١	٣	(٢) زراعة الأرض (١) اكتشاف النار (٣) استخدام النقود	٢	
الفهم والتطبيق	٣٠	١	٢	المسلمون (مطهر وعلاج الربو) الفراغنة (تحنيط جثث الموتى)		ثالثاً

تابع نموذج إجابة امتحان الصف السابع

الدور الاول للعام الدراسي ٢٠٢٣/٢٠٢٤م

المادة : الدراسات الاجتماعية

*السؤال الثالث:

(٨ درجات)

المستوى المعرفي	الصفحة	الوحدة	الدرجة	الإجابة	المفردة	الجزئية
فهم وتطبيق	٦١	٢	١	الامطار واعتدال الحرارة	١	أولاً
الفهم والتطبيق	٦١	٢	١	مرتفعة	٢	
الفهم والتطبيق	٥٩	٢	١	 استراليا	٣	
فهم وتطبيق	٥٩	٢	١	البحر الأحمر	٤	
المعرفة	٧٠	٢	٢	(يكتفى بذكر اثنين) وللقص الغدائي العالمي أسباب عديدة نذكر منها: أ- ارتفاع مستوى المعيشة في بعض الدول وهو الأمر الذي يؤدي إلى ازدياد معدل استهلاك الفرد من الغذاء. ب- الزيادة السكانية الكبيرة والسريعة التي يشهدها العالم. ج- التقنيات الزراعية التقليدية البدائية. د- السلوكيات الغذائية وقلة الوعي الغذائي. هـ- الظروف الاقتصادية والسياسية. و- الفاقد الغذائي نتيجة الحشرات والأمراض. ز- التقلبات المناخية. ح- التلوث البيئي.	١	ثانياً
القدرات العليا	٧٠	٢	١	ترشيد استهلاك الغذاء-زيادة الإنتاج الزراعي – السلوكيات الغذائية الجيدة. (كل ما يكتبه الطالب ويشير للإجابة)	٢	
القدرات العليا	٦٩	٢	١	سوء التغذية	٣	

(٤)


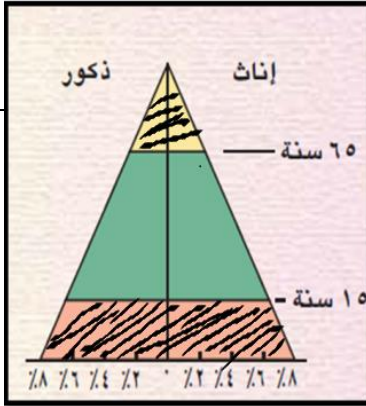
تابع نموذج إجابة امتحان الصف السابع

الدور الأول للعام الدراسي ٢٠٢٣/٢٠٢٤م

المادة : الدراسات الاجتماعية

(٦ درجات)

*السؤال الرابع:

المستوى المعرفي	الصفحة	الوحدة	الدرجة	الإجابة	المفردة	الجزئية
الفهم والتطبيق	٢٤	١	١	١	١	أولاً
المعرفة	٢٥	١	١	مبنية من الحجر المحلي- اتخذت شكل خلية النحل فوق سطح الأرض -عثر فيها على جرار من الفخار (يكتفى بذكر واحدة)	٢	
الفهم والتطبيق	٢٤	١	١		٣	
المعرفة	٢٩	١	١	ميناء خور روري (سمهرم)	٤	
المعرفة	٤٩	٢	١	الهرم ذو القاعدة العريضة(الفتي)	١	ثانياً
الفهم والتطبيق	٥٠	٢	١		٢	

تابع نموذج إجابة امتحان الصف السابع

الدور الأول للعام الدراسي ٢٠٢٣/٢٠٢٤م

المادة: الدراسات الاجتماعية

***السؤال الخامس:**

(٦ درجات)

المستوى المعرفي	الصفحة	الوحدة	الدرجة	الإجابة	المفردة	الجزئية
الفهم والتطبيق	٧٤	٣	٢	قديمًا (تربية الحيوانات - الزراعة -) حديثًا (الصناعة - الشركات الخاصة) (لكل مفردة نصف درجة)		أولاً
الفهم والتطبيق	٨٠	٣	١	ممنوع التدخين – ظاهرة التدخين	١	ثانياً
المعرفة	٨٠	٣	٢	أ- ضيق التنفس ب- سرطان الرئة تسوس الاسنان – قرحة المعدة (يكتفى بذكر اثنين)	٢	
القدرات العليا	٨١	٣	١	استثمار وقت الفراغ – ممارسة الرياضة – قراءة الكتب المفيدة (كل ما يقترحه الطالب ويدل على الإجابة الصحيحة) يكتفى بذكر واحدة.	٣	

نهاية نموذج الإجابة



امتحان مادة: الدراسات الاجتماعية
 للصف: السابع
 للعام الدراسي ١٤٤٥هـ - ٢٠٢٣/٢٠٢٤ م
 الدور: الأول - الفصل الدراسي الأول (الفترة المسائية)

- زمن الامتحان: (ساعة ونصف)
- عدد صفحات أسئلة الامتحان: (٦) صفحات.
- الإجابة في الدفتر نفسه.

		اسم الطالب
الصف		المدرسة

التوقيع بالاسم		الدرجة		السؤال
المصحح الثاني	المصحح الأول	بالحروف	بالأرقام	
				١
				٢
				٣
				٤
				٥
مراجعة الجمع	جمعه			المجموع
				المجموع الكلي



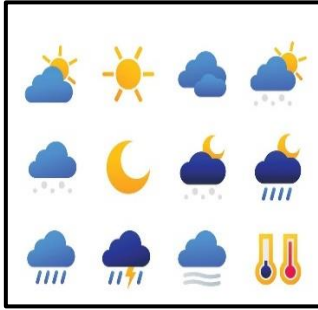
أجب عن جميع الأسئلة الآتية

السؤال الأول: ضع دائرة حول رمز الإجابة الصحيحة لكل مفردة من المفردات الآتية:

١- الحضارة التي عُرفت عُمان في نصوصها ببلاد الفضة هي:
 أ- الأكادية ب- الفرعونية ج- السومرية د- الآشورية

٢- العامل الرئيسي الذي جعل الفرس يتخذون صحار مركز لتجارتهم البحرية:
 أ- مناخها ب- موقعها ج- مساحتها د- سكانها


٣- الصورة المعبرة لأحد العوامل البشرية التي تؤثر في توزيع السكان:



(د)



(ج)



(ب)



(أ)

٤- المصطلح الذي يطلق على "افتقار الغذاء للعناصر الغذائية اللازمة للجسم" هو:

أ- مشكلة الجوع ب- سوء التغذية ج- مشكلة الغذاء د- نقص الإنتاج

٥- الجدول الصحيح الذي يمثل أهم الآثار المكتشفة في حضارة دلمون:

مقبرة عالي
أواني فخارية
أختام

(د)

مقبرة بات
أواني فخارية
جرار فخارية

(ج)

مقبرة عالي
أدوات زينة
أسلحة

(ب)

مقبرة بات
أواني فخارية
أختام

(أ)

٦- مفهوم يقصد به الأموال التي يكتسبها الفرد من خلال عمله هو:

أ- الدخل ب- الإنفاق ج- الادخار د- الاستثمار

تابع: السؤال الأول:

٧- نسبة عدد الذكور إلى الإناث في المجتمع تعرف بالبنية:

أ - العمرية ب-النوعية ج- الاقتصادية د- الاجتماعية

٨- المقبرة الظاهرة في الصورة المقابلة ترجع إلى الألفية:



أ - الأولى ب- الثانية

ج- الثالثة د- الرابعة

٩- أراد محمد أن يحافظ على صحة بدنه " السلوك الصحيح الذي تنصح به محمد هو:

أ- تناول الوجبات السريعة بكثرة

ب- تناول المشروبات الغازية بكثرة

ج- ممارسة الرياضة بانتظام

د- تناول الأطعمة المليئة بالدهون

١٠- فئة صغار السن إحدى الفئات العمرية للمجتمع وهي التي يتراوح عمرها من:

أ- (أقل من ١٥ سنة)

ب- (من ١٥-٦٤ سنة)

ج- (٦٥ سنة فأكثر)

د- (من ٣٥-٥٠ سنة)

١١- دولة ما أقيم التعداد الأول فيها عام ٢٠١٥ م والثاني عام ٢٠٢٠م، لذا من المتوقع أن يقام التعداد الثالث عام:

أ- ٢٠٢٢م

ب- ٢٠٢٥م

ج- ٢٠٣٠م

د- ٢٠٣٥م

١٢- السلوك الخاطئ أثناء القيادة الذي تعبر عنه الصورة المقابلة هو:

أ - استخدام الهاتف النقال.

ب - عدم استخدام حزام الأمان.

ج - عدم ترك مسافة الأمان.

د - التجاوز الخاطئ.



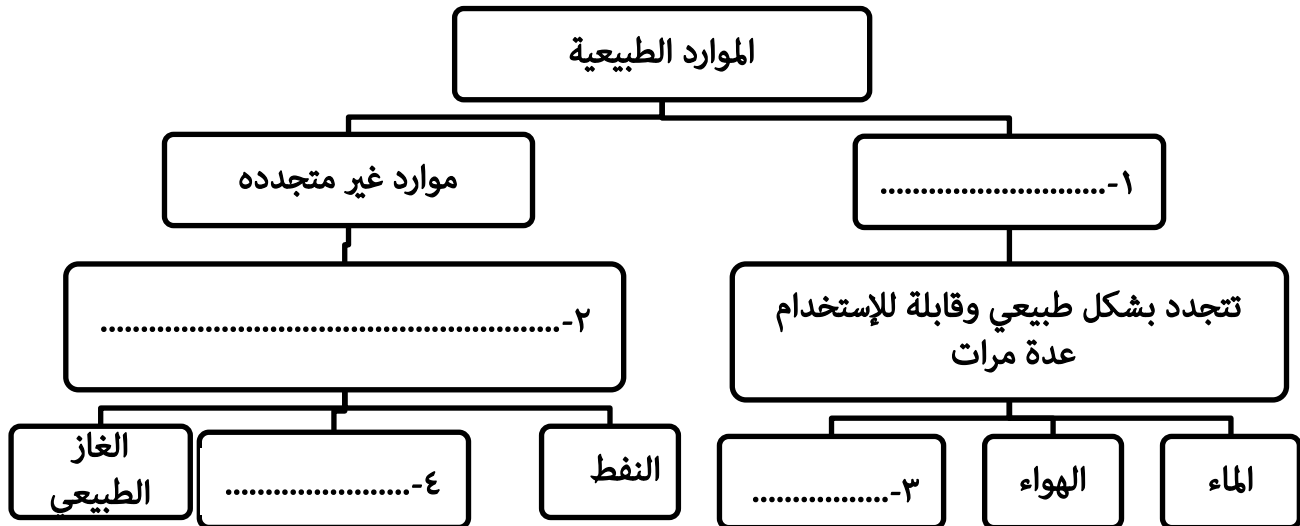
السؤال الثاني: أجب عن جميع الأسئلة الآتية:

أولاً: أ) أكتب اسم المصطلح أو المفهوم الدال على العبارات الآتية:

٨

م	العبرة	المفهوم
١	كل ما أوجده الإنسان من أجل سد احتياجاته المادية وغير المادية.
٢	زيادة أعداد السكان بصورة كبيرة تفوق الزيادة في الموارد الطبيعية.
٣	دراسة السكان حسب فئات العمر

ثانياً: أ) أكمل المخطط الآتي:



ثالثاً: أ) علل ما يلي:

١- يفضل الإنسان العيش في المناطق السهلية على المناطق الجبلية.

.....

.....

٢- ارتفاع أمد الحياة في الدول المتقدمة.

.....

.....

(٤)

المادة: الدراسات الاجتماعية - الصف: السابع - الدور الأول - الفصل الدراسي الأول - العام الدراسي ٢٠٢٣/٢٠٢٤م

السؤال الثالث: أجب عن جميع الأسئلة الآتية:

٨

أولاً: أ) أذكر مثال واحد لكل من:

١- حضارات قامت في بلاد ما بين النهرين.

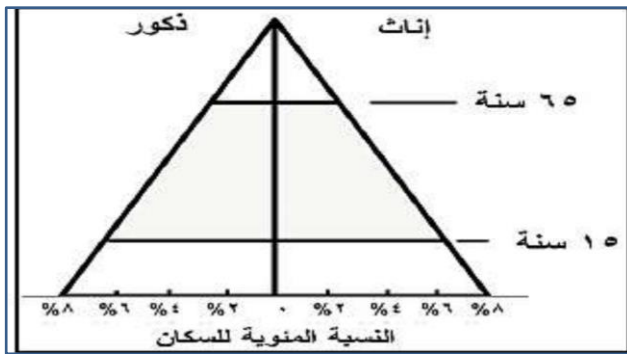
٢- المعادن التي تستوردها حضارة الفراعنة من عمان.

ثانياً: أ) انسب العبارات التالية للمفهوم الذي تنتمي اليه بوضع علامة (√)

م	العبرة	الدخل	الاستثمار	الادخار
١	يعمل محمد في شركة خاصة وراتبه الشهري ٤٠٠ ريال عماني.			
٢	تبقى لدى محمد مبلغ ١٠٠ ريال عماني، وسوف يضعها جانبا لإنفاقها عند الضرورة.			
٣	وفر محمد مبلغاً من المال وفتح به محلاً لبيع الهواتف.			

ب) ادرس الشكل الذي أمامك، ثم أجب عن الأسئلة الآتية:

١- ما نوع الهرم السكاني في الشكل المقابل؟



٢- يمثل الهرم الذي أمامك:

 المجتمع الفتى المجتمع المسن

(ضع علامة √ أمام الإجابة الصحيحة)

ثالثاً: أ) في ضوء دراستك لمراحل استخراج اللبان، قم بترتيبها ترتيباً صحيحاً بكتابة الأرقام (١, ٢, ٣, ٤) من بداية العملية إلى نهايتها.

(....) جرح الشجرة مرة ثانية.

(....) كشط القشرة الخارجية لجذع الشجرة.

(....) التخلص من السائل ذو النوعية الغير جيدة.

(....) البدء في مرحلة الجمع الحقيقي للبان.

(٥)

المادة: الدراسات الاجتماعية - الصف: السابع -الدور الأول - الفصل الدراسي الأول - العام الدراسي ٢٠٢٣/٢٠٢٤م

السؤال الرابع: أجب عن جميع الأسئلة الآتية:

٦



أولاً: أ) الصورة التي أمامك توضح أحد قوانين السلامة أثناء القيادة، ما هو؟

.....

.....

ب- اذكر نتيجة واحدة مترتبة على ما يلي:

١- تجنب الدهون وترك الوجبات السريعة.

.....

٢-ازدياد حوادث الطرق

.....

ثانياً: - اقرأ النص الآتي، ثم أجب عن الأسئلة التي تليه.

" تعد الهجرة مصدراً رئيسياً لتغير السكان، وتزداد في سلطنة عمان من الريف إلى المدينة، حيث تشهد محافظة مسقط حركة هجرة متزايدة إليها، وقد يعود ذلك لأسباب عدة منها توفر خدمات تعليمية وصحية، ومستوى معيشياً أفضل "

أ- استنتج من النص ما يلي:

١- نوع الهجرة في النص.

.....

.....

٢- الأسباب الأساسية التي تؤدي إلى الهجرة.

.....

.....

ب- اقترح حلاً واحداً لتقليل الهجرة إلى محافظة مسقط.

.....

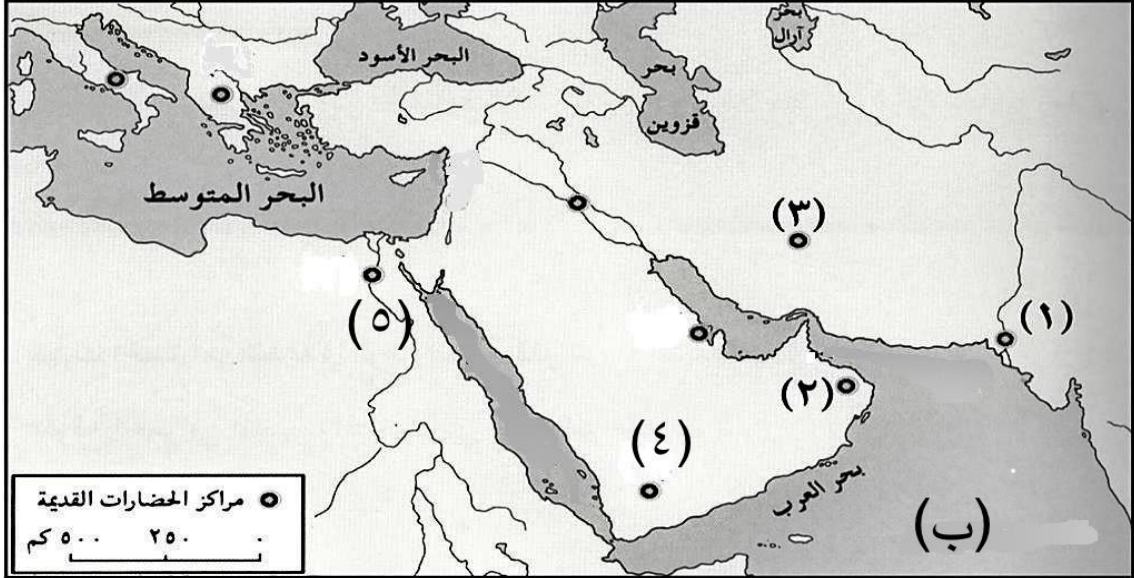
.....

(٦)

المادة: الدراسات الاجتماعية - الصف: السابع - الدور الأول - الفصل الدراسي الأول - العام الدراسي ٢٠٢٣/٢٠٢٤م

السؤال الخامس: أجب عن جميع الأسئلة الآتية:

أولاً: أدرس الخريطة التي أمامك جيداً ثم أجب عما يلي:



١- ما الرقم الذي يشير إلى كل من :

أ- الحضارة التي قامت فيها الدولة الساسانية في القرن ٣م (.....).

ب- الحضارة التي استخدمت اللبان في تحنيط جثث الموتى (.....).

٢- الرمز (ب) في الخريطة يشير إلى المحيط

٣- وقع على الخريطة حضارة بلاد الرافدين في موقعها الصحيح.

ثانياً: غادر الطلاب صفهم بعد انقضاء اليوم الدراسي، تاركين النفايات في غير المكان المخصص لها داخل الغرفة (الصفية).

١- ما رأيك في هذا السلوك؟ ولماذا؟

.....

.....

.....

٢- اقترح عبارة توعوية تضاف للملصق الذي أمامك بهدف الحفاظ على النظافة.



انتهت الأسئلة مع الدعاء للجميع بالتوفيق والنجاح



نموذج إجابة امتحان الصف السابع
للعام الدراسي ١٤٤٥ هـ - ٢٠٢٣/٢٠٢٤ م
الدور الأول - الفصل الدراسي الأول (الفترة المسائية)

المادة: الدراسات الاجتماعية
الدرجة الكلية: (٤٠) درجة.
تنبيهه: نموذج الإجابة في (٥) صفحات.

أولاً: إجابة السؤال الموضوعي:

١٢ درجة

إجابة السؤال الأول

الصفحة	الدرجة	الإجابة	البديل الصحيح	المفردة
٢٧	١	الأكاديمية	أ	١
٢٥	١	موقعها	ب	٢
٦٢	١		ج	٣
٦٩	١	سوء التغذية	ب	٤
٣٢ ٣٣	١		د	٥
٧٤	١	الدخل	أ	٦
٤٨	١	النوعية	ب	٧
٢٥	١	الثالثة	ج	٨
٧٩	١	ممارسة الرياضة بانتظام	ج	٩
٤٧	١	(أقل من ١٥ سنة)	أ	١٠
٤٢	١	٢٠٢٥ م	ب	١١
٩٤	١	التجاوز الخطأ	د	١٢
١٢		المجموع		

(٢)

تابع نموذج إجابة امتحان الصف السابع
للعام الدراسي ١٤٤٥ هـ - ٢٠٢٣/٢٠٢٤ م
الدور الأول- الفصل الدراسي الأول
المادة: الدراسات الاجتماعية

ثانيا: إجابة الأسئلة المقالية:

إجابة السؤال الثاني				
الدرجة الكلية: (٨) درجة				
الصفحة	الدرجة	الإجابة الصحيحة	المفردة	الجزئية
١٥	١	الحضارة	١	أولا
٤٤	١	الانفجار السكاني	٢	
٤٧	١	البنية العمرية	٣	
٦٨	١	موارد متجددة	١	أ
	١	موارد لا تتجدد بسبب طبيعة تكوينها.	٢	
	نصف درجه	التربة	٣	
	نصف درجه	المعادن.	٤	
٦١	١	لسهولة الوصول اليها ، وملاءمتها لبناء المسكن وقيام الزراعة .	١	أ
٥٥	١	بسبب توفر الخدمات الصحية لمواطنيها.	٢	

(٣)

تابع نموذج إجابة امتحان الصف السابع
للعام الدراسي ١٤٤٥ هـ - ٢٠٢٣/٢٠٢٤ م
الدور الأول - الفصل الدراسي الأول
المادة : الدراسات الاجتماعية

تابع ثانياً: إجابة الأسئلة المقالية:

إجابة السؤال الثالث					الدرجة الكلية: (٨) درجة																									
الجزئية	المفردة	الإجابة الصحيحة			الدرجة	الصفحة																								
أولا	١	سومر - أكاد - بابل - آشور (يكتفى بذكر مثال واحد)			١	٢٦																								
	٢	الفضة - النحاس. (يكتفى بذكر مثال واحد فقط)			٢	٢٧																								
ثانيا	أ	<table border="1"> <thead> <tr> <th>م</th> <th>العبارة</th> <th>الدخل</th> <th>الاستثمار</th> <th>الادخار</th> </tr> </thead> <tbody> <tr> <td>١</td> <td>يعمل محمد في شركة خاصة وراتبه الشهري ٤٠٠ ريال عماني.</td> <td>√</td> <td></td> <td></td> </tr> <tr> <td>٢</td> <td>تبقى لدى محمد مبلغا ١٠٠ ريال عماني وسوف يضعها جانبا لإنفاقها عند الضرورة.</td> <td></td> <td></td> <td>√</td> </tr> <tr> <td>٣</td> <td>وفر محمد مبلغا من المال وفتح به محلا لبيع الهواتف.</td> <td></td> <td>√</td> <td></td> </tr> </tbody> </table>			م	العبارة	الدخل	الاستثمار	الادخار	١	يعمل محمد في شركة خاصة وراتبه الشهري ٤٠٠ ريال عماني.	√			٢	تبقى لدى محمد مبلغا ١٠٠ ريال عماني وسوف يضعها جانبا لإنفاقها عند الضرورة.			√	٣	وفر محمد مبلغا من المال وفتح به محلا لبيع الهواتف.		√		٣ درجات لكل اجابة درجة	٧٦-٧٤				
		م	العبارة	الدخل	الاستثمار	الادخار																								
		١	يعمل محمد في شركة خاصة وراتبه الشهري ٤٠٠ ريال عماني.	√																										
		٢	تبقى لدى محمد مبلغا ١٠٠ ريال عماني وسوف يضعها جانبا لإنفاقها عند الضرورة.			√																								
٣	وفر محمد مبلغا من المال وفتح به محلا لبيع الهواتف.		√																											
ب	١	الهرم ذو القاعدة العريضة.			نصف درجة	٤٩-٤٨																								
	٢	المجتمع الفتى <input checked="" type="checkbox"/>			نصف درجة																									
ثالثا	أ	(٣) جرح الشجرة مرة ثانية (١) كشط القشرة الخارجية لجذع الشجرة (٢) التخلص من السائل ذو النوعية غير الجيدة. (٤) البدء في مرحلة الجمع الحقيقي للبان.			٢ درجات لكل اجابة نصف درجة	٣٠																								

(٤)

تابع نموذج إجابة امتحان الصف السابع
للعام الدراسي ١٤٤٥ هـ - ٢٠٢٣/٢٠٢٤ م
الدور الأول - الفصل الدراسي الأول
المادة : الدراسات الاجتماعية

تابع ثانيا: إجابة الأسئلة المقالية:

إجابة السؤال الرابع					
الدرجة الكلية: (٦) درجة					
الصفحة	الدرجة	الإجابة الصحيحة	المفردة	الجزئية	
٩٥-٩٣	١	عدم استخدام الهاتف النقال.	أ	أولا	
٧٩	١	تمتع الفرد بصحة جيدة.	١		ب
٩٠	١	(الوفيات / إصابة الناس / إعاقات / خسائر مادية). يكتفي بذكر نتيجة واحدة فقط.	٢		
٥٦	١	هجرة داخلية.	١	ثانيا	
٥٧	١	توفر خدمات تعليمية وصحية ومستوى معيشي أفضل في المدن، توفر فرص العمل فيها بأجور مرتفعة.	٢		أ
٥٧	١	-توزيع الخدمات الصحية والتعليمية في مختلف الولايات. -وتوفير فرص عمل بأجور جيدة في الريف. (تقبل أي إجابة من الطالب إذا كانت حلا مناسبة)	ب		

(٥)

تابع نموذج إجابة امتحان الصف السابع
للعام الدراسي ١٤٤٥ هـ - ٢٠٢٣/٢٠٢٤ م
الدور الأول - الفصل الدراسي الأول
المادة: الدراسات الاجتماعية

تابع ثانيا: إجابة الأسئلة المقالية:

الدرجة الكلية: (٦) درجة		إجابة السؤال الخامس		
الصفحة	الدرجة	الإجابة الصحيحة	المفردة	الجزئية
١٩/٢٨	نصف درجة	(٣)	أ/١	أولا الخريطة
١٩/٣٠	نصف درجة	(٥)	ب /١	
١٩	١	المحيط الهندي	٢	
١٩	١		٣	
٨٨-٨٦	٢درجتان رأي الطالب درجة واحدة وذكر السبب درجة	-رأيي /تصرف خاطئ. -لماذا/ لأن المدرسة تعتبر من الممتلكات العامة والمحافظة عليها تضمن استمرار تقديم الخدمات ومن واجبي كمواطن المحافظة على ممتلكات الدولة التي تقدم لنا الخدمات	١	ثانيا
٨٩-٨٨	١	-النظافة من الإيمان -حافظ على نظافة الصف - ارمي النفايات في سلة النفايات - لا أرمي النفايات في ساحة المدرسة <u>تقبل أي عبارة كتبها الطالب تهدف إلى المحافظة على النظافة.</u>	٢	

نهاية نموذج الإجابة



امتحان مادة: الدراسات الاجتماعية
 للصف: السابع
 للعام الدراسي ١٤٤٥هـ - ٢٠٢٣/٢٠٢٤ م
 الدور: الأول - الفصل الدراسي الأول (الفترة الصباحية)

- زمن الامتحان: (ساعة ونصف)
- عدد صفحات أسئلة الامتحان: (٧) صفحات.
- الإجابة في الدفتر نفسه.

		اسم الطالب
الصف		المدرسة

التوقيع بالاسم		الدرجة		السؤال
المصحح الثاني	المصحح الأول	بالحروف	بالأرقام	
				١
				٢
				٣
				٤
				٥
مراجعة الجمع	جمعه			المجموع
				المجموع الكلي


أجب عن جميع الأسئلة الآتية

السؤال الأول: ضع دائرة حول رمز الإجابة الصحيحة لكل مفردة من المفردات الآتية:


١٢

١- الحضارة التي أطلقت اسم مجان على عمان:
أ- الفرس ب- الأشورية ج- الفراعنة د- السومرية

٢- الصورة التي تشير إلى أضخم انجاز بشري حققه الإنسان في العصر الحجري القديم:



(ب)



(أ)



(د)



(ج)

٣- الجدول الصحيح الذي يشمل معلومات ارتبطت بدولة سبأ:

قامت بين عامي (٨٠٠ق.م - ١١٥ق.م)
عاصمتها مدينة مأرب
أشهر ملوكها الملكة سبأ

(ب)

قامت بين عامي (١١٥ق.م - ٥٢٥م)
عاصمتها مدينة تمنع
أصبح ميناء عدن في عهدهم مركزا لتجارة البخور

(أ)

قامت بين عامي (١٣٠٠ق.م - ٦٥٠ق.م)
عاصمتها مدينة قرناو
سيطروا في عهدهم على طرق التجارة مع بلاد الشام

(د)

قامت بين عامي (٨٠٠ق.م - ١١٥ق.م)
عاصمتها مدينة قرناو
أصبح ميناء عدن في عهدهم مركزا لتجارة البخور

(ج)

المادة: الدراسات الاجتماعية - الصف: السابع - الدور الأول - الفصل الدراسي الأول - العام الدراسي ٢٠٢٣/٢٠٢٤ م

تابع السؤال الأول:

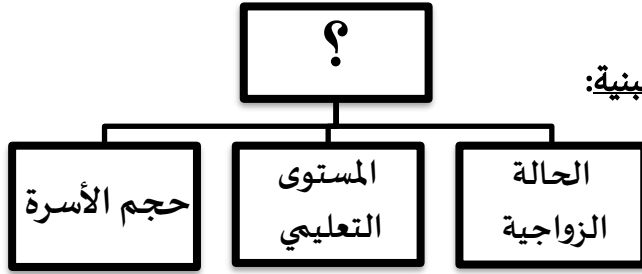
٤- العصر الذي استطاع فيه الإنسان مزج النحاس بالقصدير:

أ- الحجري القديم ب- الحجري الحديث ج- البرونزي د- الحديدي

٥- جميع ما يلي من العوامل البشرية التي تؤثر في توزيع السكان ما عدا:

أ - الهجرة ب- التضاريس ج - وسائل النقل د- الأنشطة الاقتصادية

٦ - المخطط التالي يمثل دراسة السكان حسب البنية:



أ - الاقتصادية ب - العمرية ج- النوعية د - الاجتماعية

٧- الأمم المتحدة قد خصت يوم ١٦ أكتوبر من كل عام للاحتفال بيوم:

أ - المرأة ب- الصحة ج - الغذاء د - البيئة

٨ - سكان العالم القديم (آسيا، أوروبا، أفريقيا) يمثلون من جملة سكان العالم نحو:

أ - الثلث ب - النصف ج- الربع د - ثلاثة أرباع

٩- الدولة التي تعكس أعلى مؤشر للتقدم الصحي والاجتماعي حسب بيانات الجدول التالي:

الدولة	سلطنة عمان	الأردن	مصر	الصومال
معدل وفيات الأطفال الرضع بالألف	٤	٦	٨	١٠

أ - سلطنة عمان ب- الأردن ج - مصر د- الصومال

(٣)

المادة: الدراسات الاجتماعية - الصف: السابع - الدور الأول - الفصل الدراسي الأول - العام الدراسي ٢٠٢٣/٢٠٢٤ م

تابع السؤال الأول:

١٠- مصطلح يقصد به استغلال المال الزائد عن الحاجة لإقامة مشاريع تزيد من الدخل:

أ- الراتب الوظيفي ب- الاستثمار ج- الدخل د- الإنفاق

١١- المخطط الصحيح الذي يعبر عن مصادر الدخل للفرد قديماً:

(أ)	 تربية الحيوانات	(ب)	 الوظائف الحكومية
	 الزراعة		 الزراعة
	 الصناعة		 الصيد
(ج)	 تربية الحيوانات	(د)	 الوظائف الحكومية
	 الزراعة		 الزراعة
	 الصيد		 الصناعة

١٢- الصورة المقابلة تعبر عن دور شرطة عمان السلطانية في:

أ - التوعية بسلامة المركبة.

ب - تحرير المخالفات المرورية.

ج - إسعافات حوادث الطرق.

د - تنظيم عبور المشاة.



السؤال الثاني: أجب عن جميع الأسئلة الآتية:

٨

أولاً: (أ) أكتب اسم المصطلح أو المفهوم الدال على العبارات الآتية:

م	العبارة	المفهوم
١	العملية الشاملة لحصر الأفراد والتعرف على حالتهم الاقتصادية والاجتماعية في الدولة وفي زمن معين.
٢	عدد السنوات التي يعيشها الفرد الواحد.
٣	من أساليب البيع والشراء ولا تستخدم فيها النقود.

ثانياً: (أ) أكمل جدول المقارنة الذي امامك مستعيناً بالأشكال الآتية:

الشكل	ذكور	إناث
مجال المقارنة		
نوع الهرم السكاني
خصائصه

(ب) ما أهمية دراسة بنية السكان في المجتمعات؟

ثالثاً: (أ) علل ما يلي:

١- أطلق اليونان على اليمن (بلاد العرب السعيدة).

٢- ارتفاع معدلات المواليد في المجتمعات الزراعية التقليدية.

(٥)

المادة: الدراسات الاجتماعية - الصف: السابع - الدور الأول - الفصل الدراسي الأول - العام الدراسي ٢٠٢٣/٢٠٢٤ م

السؤال الثالث: أجب عن جميع الأسئلة الآتية:

أولاً: (أ) أذكر مثال واحد لكل من:

١- استخدامات اللبان قديماً عند المسلمين.

.....

٢- الآثار المكتشفة في حضارة دلمون

.....

ثانياً: (أ) اكتب أسفل كل صورة مقومات الصحة الجيدة التي تشير إليه:



.....٢-



.....١

(ب) احسب الكثافة السكانية وفقاً للمعطيات التالية: بلغ إجمالي عدد السكان في محافظة ظفار ٢٤٩٧٢٩ نسمة خلال عام ٢٠١٠م، علماً بأن مساحة المحافظة تبلغ حوالي ٩٩٣٠٠ كم^٢. (اكتب القانون المستخدم في الحل)

.....

.....

.....

.....

ثالثاً: (أ) "اعتقد الإنسان العماني القديم باستمرار الحياة في العالم الآخر" في ضوء هذه العبارة أجب عن الآتي:

١- ما رأيك في صحة هذه العبارة:

(ضع علامة ✓ في المكان المناسب)

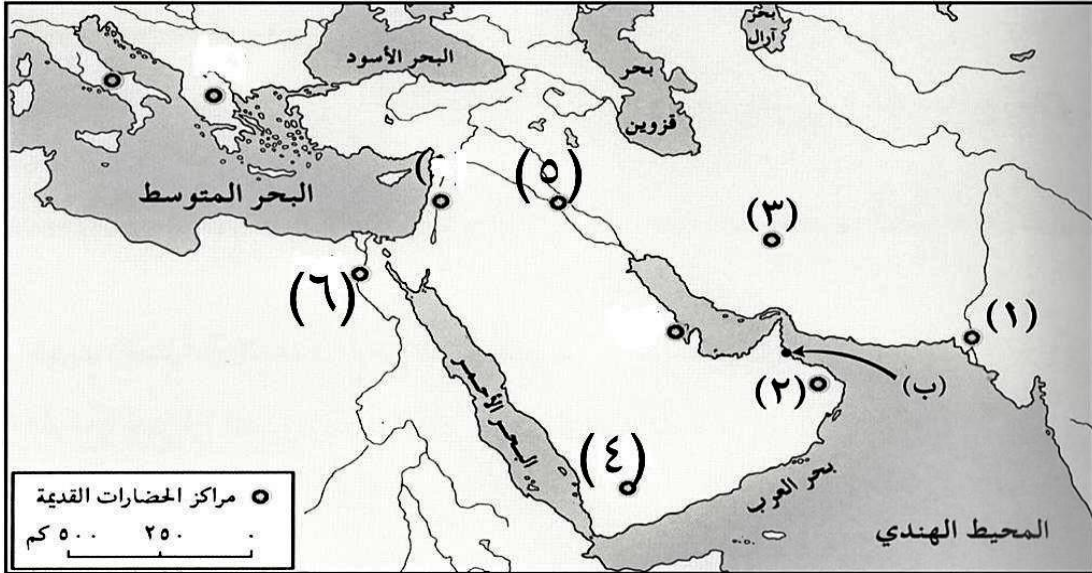
لا أوافق أوافق

٢- برهن على إجابتك.

.....

.....

السؤال الرابع: أجب عن جميع الأسئلة الآتية:
أولاً: أدرس الخريطة التي أمامك جيداً ثم أجب عما يلي:



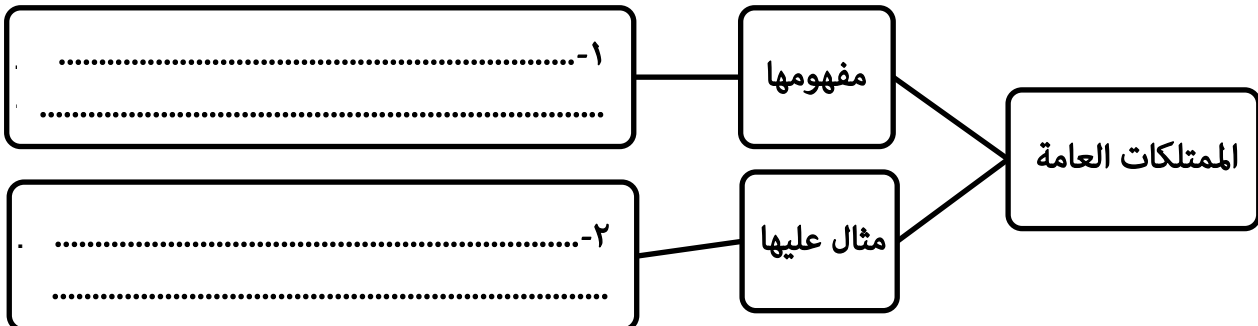
١- ما الرقم الذي يشير الى :

- أ- الحضارة التي قامت فيها دول عدة منها: معين وقتبان (.....).
ب- الحضارة التي سُميت في النصوص الأثورية (سفن الناس) (.....).

٢- المدينة المشار لها بالرمز (ب) في الخريطة، والتي اتخذها الفرس مركزاً لتجارتهم البحرية في العصور التاريخية القديمة هي..... (أكمل)

٣- وقع على الخريطة موقع مضيق باب المندب باستخدام الرمز (▲).

ثانياً: أ) أكمل المخطط الآتي:



ب- وضح الأهمية الاقتصادية للآثار.

.....
.....

السؤال الخامس: أجب عن جميع الأسئلة الآتية:

٦

أولاً: اقرأ الفقرة الآتية، ثم أجب عن الأسئلة التي تليها:

" تُشكل النفايات خطراً كبيراً على البيئة، وبالأخص عندما تزداد النفايات إلى حد يصعب على الطبيعة امتصاصها وتحليلها، فتؤثر سلباً على صحة الانسان والمناخ، ويُعد النمو السكاني السريع هو السبب الرئيسي لظهور هذه المشكلة السكانية في المجتمعات المعاصرة "

(أ) - استنتج من الفقرة ما يلي:

١- اسم المشكلة السكانية التي تحدثت عنها الفقرة السابقة.

٢- الآثار السيئة الناتجة عن تلك المشكلة.

(ب) - اقترح حلاً واحداً لهذه المشكلة.

ثانياً: (أ) أنظر إلى الصورة المقابلة ثم أجب عن الآتي:

١- اذكر نتيجة واحدة مترتبة على الظاهرة الواضحة في الصورة؟



٢- لو كنت سائقاً فما الأخلاقيات التي ينبغي التحلي بها في قيادتك للسيارة؟ (يكتفي بذكر اثنتين)

انتهت الأسئلة مع الدعاء للجميع بالتوفيق والنجاح



نموذج إجابة امتحان الصف السابع

للعام الدراسي ١٤٤٥ هـ - ٢٠٢٣/٢٠٢٤ م

الدور الأول - الفصل الدراسي الأول (الفترة الصباحية)

الدرجة الكلية: (٤٠) درجة.

المادة: الدراسات الاجتماعية

تنبیهه: نموذج الإجابة في (٥) صفحات.

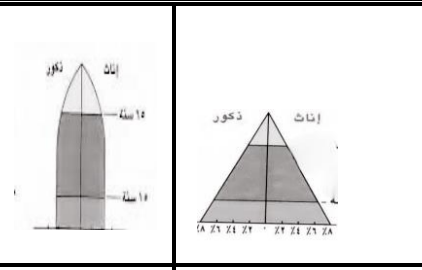
أولاً: إجابة السؤال الموضوعي:

١٢ درجة		إجابة السؤال الأول		
الصفحة	الدرجة	الإجابة	البديل الصحيح	المفردة
٢٦	١	السومرية	د	١
١٦	١		ب	٢
٣٨ ٣٩	١	قامت بين (٨٠٠ ق.م - ١٥٠ ق.م) عاصمتها مدينة مارب أشهر ملوكها الملكة بلقيس (ب)	ب	٣
١٧	١	البرونزي	ج	٤
٦٢	١	التضاريس	ب	٥
٥١	١	الاجتماعية	د	٦
٦٩	١	الغذاء	ج	٧
٦١	١	ثلاثة أرباع	د	٨
٥٣	١	سلطنة عمان	أ	٩
٧٥	١	الاستثمار	ب	١٠
٧٥	١		ج	١١
٩٠	١	تنظيم عبور المشاة	د	١٢
١٢		المجموع		

(٢)

تابع نموذج إجابة امتحان الصف السابع
للعام الدراسي ١٤٤٥ هـ - ٢٠٢٣/٢٠٢٤ م
الدور الأول- الفصل الدراسي الأول
المادة: الدراسات الاجتماعية

ثانياً: إجابة الأسئلة المقالية:

إجابة السؤال الثاني		الدرجة الكلية: (٨) درجة	
الجزئية	المفردة	الإجابة الصحيحة	الدرجة
أولاً (١)	١	التعداد	١
	٢	أمد الحياة	١
	٣	المقايضة	١
ثانياً	أ		٢ لكل إجابة نصف درجة
		<p>الشكل</p> <p>مجال المقارنة</p>	
		<p>نوع الهرم السكاني</p> <p>الهرم ذو القاعدة العريضة .</p> <p>الهرم ذو القاعدة الضيقة</p> <p>احدى خصائصه</p> <p>يمثل المجتمع الفتى / تزيد فيه نسبة صغار السن</p> <p>يمثل المجتمع المسن / تنخفض فيه نسبة صغار السن</p>	
ب	تساعد على فهم النمو السكاني - دراسة الأوضاع الاقتصادية والاجتماعية.	١	٤٦
ثالثاً (١)	١	لأهمية موقع اليمن الجغرافي وخصوبة تربتها وأمطارها الموسمية الصيفية.	١
	٢	لأن الأسرة هي التي تقوم بالزراعة، فهي بحاجة إلى توفير اليد العاملة عن طريق أفرادها .	١

(٣)

تابع نموذج إجابة امتحان الصف السابع
للعام الدراسي ١٤٤٥ هـ - ٢٠٢٣/٢٠٢٤ م
الدور الأول - الفصل الدراسي الأول
المادة: الدراسات الاجتماعية

تابع ثانياً: إجابة الأسئلة المقالية:

الدرجة الكلية: (٨) درجة		إجابة السؤال الثالث	
الصفحة	الدرجة	الإجابة الصحيحة	المفردة
٣٠	١	مطهر / وعلاج لأمراض الربو والسعال المزمن وضيق التنفس وأوجاع الكلى. يكتفي بذكر واحد فقط	١
٣٢ ٣٣	١	مقبرة عالي / الأواني الفخارية في القبور / أواني نحاسية تماثيل مختلفة / أنواع من العقود والخواتم / أختام تستخدم للمهمات الرسمية. يكتفي بذكر واحد فقط	٢
٧٩	١	ممارسة الرياضة بانتظام.	١
	١	تجنب الوجبات الغذائية السريعة.	٢
٦٥	٢ (درجتان) يأخذ الطالب درجة على كتابة القانون ودرجة لكل من التعويض الصحيح والنتائج	$\frac{\text{جملة عدد السكان في منطقة ما}}{\text{المساحة الكلية للمنطقة}} = \text{الكثافة السكانية}$ $\frac{249729}{99300} = \text{الكثافة السكانية}$ <p>= ٢,٥ نسمة / كم^٢</p>	ب
٢٥	١	أوافق <input checked="" type="checkbox"/>	١
	١	العثور على بعض الجرار المصنوعة من الفخار في مقابر بات.	٢

(٤)

تابع نموذج إجابة امتحان الصف السابع
للعام الدراسي ١٤٤٥ هـ - ٢٠٢٣/٢٠٢٤ م
الدور الأول - الفصل الدراسي الأول
المادة: الدراسات الاجتماعية

تابع ثانياً: إجابة الأسئلة المقالية:

إجابة السؤال الرابع				
الدرجة الكلية: (٦) درجة				
الصفحة	الدرجة	الإجابة الصحيحة	المفردة	الجزئية
٣٧	نصف درجة	(٤)	أ	١
١٩/٣٧	نصف درجة	(٢)	ب	
٢٨	١	صحار	٢	أولاً الخريطة
٣٧	١		٣	
٨٤	١	كل ما تملكه الدولة وتشرف عليه وترعاه من النواحي الإدارية والمالية والقانونية.	١	ثانياً
٨٤	١	المؤسسات والوزارات والمرافق الحكومية مثل: المستشفيات والمدارس. - المعالم الأثرية والسياحية / الموارد الطبيعية /المشروعات الصناعية الكبرى / الغابات والمحميات الطبيعية / الحدائق العامة والطرق. (يكتفي بذكر واحد فقط).	٢	
٨٨	١	تعمل على تنشيط السياحة	ب	

(٥)

تابع نموذج إجابة امتحان الصف السابع
للعام الدراسي ١٤٤٥ هـ - ٢٠٢٣/٢٠٢٤ م
الدور الأول - الفصل الدراسي الأول
المادة: الدراسات الاجتماعية

تابع ثانيا: إجابة الأسئلة المقالية:

الدرجة الكلية: (٦) درجة		إجابة السؤال الخامس	
الصفحة	الدرجة	الإجابة الصحيحة	المفردة
٧١	١	التلوث / التدهور البيئي.	١
٧١	١	تؤثر على صحة الانسان - انتاج الغذاء - المناخ.	٢
٧١	١	- رمي النفايات في الأماكن المخصصة لذلك - نشر الوعي البيئي والاهتمام بين السكان - تشجيع عمليات التدوير. (يكتفي بذكر واحد فقط). (تقبل أي إجابة بما تفيد المعنى)	ب
٩٠	١	-وفيات / وإصابات جسمية / ظهور إعاقات / خسائر مادية تؤثر سلبا على الاقتصاد الوطني للدولة. (يكتفي بذكر واحد فقط).	١
٩١	٢درجتان لكل اجابة درجة واحد	- الالتزام بالقوانين والأنظمة والتعليمات - التوازن وهدوء الأعصاب. - التعاون. - الصدق والأمانة. (يكتفي بذكر اثنتين).	٢

نهاية نموذج الإجابة



امتحان مادة: الدراسات الاجتماعية
للسب: السابع
للعام الدراسي ١٤٤٥هـ - ٢٠٢٣/٢٠٢٤ م
الدور: الثاني - الفصل الدراسي الأول

- زمن الامتحان : (ساعة ونصف)
- عدد صفحات أسئلة الامتحان: (٧) صفحات.
- الإجابة في دفتر نفسه .

		اسم الطالب
الصف		المدرسة

التوقيع بالاسم		الدرجة		السؤال
المصحح الثاني	المصحح الأول	بالحروف	بالأرقام	
				١
				٢
				٣
				٤
				٥
مراجعة الجمع	جمعه			المجموع
				المجموع الكلي

(٢)

المادة: الدراسات الاجتماعية - الصف: السابع - الدور الثاني - الفصل الدراسي الأول - العام الدراسي ٢٠٢٣/٢٠٢٤م

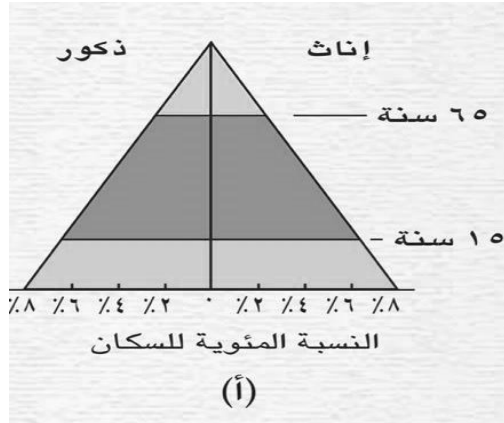
تابع السؤال الأول:

٥- تم إجراء ثالث تعداد للسكان في سلطنة عمان عامم:
 أ- ١٩٩٣ ب- ١٩٩٨ ج- ٢٠٠٠ د- ٢٠١٠

٦ - المعدل الذي يعد أحد المؤشرات المهمة في قياس المستوى الصحي للمجتمع:
 أ - الهجرة ب - مواليد الرضع ج- وفيات الرضع د - الإعالة

٧- غالبية سكان العالم يتركزون في نصف الكرة:
 أ - الشمالي ب- الغربي ج - الشرقي د - الجنوبي

٨ - الوصف الصحيح لخصائص الهرم الذي أمامك:



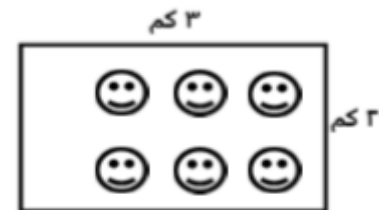
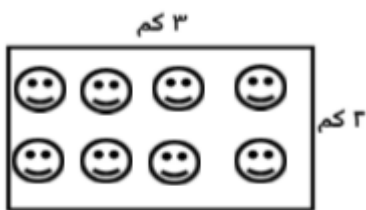
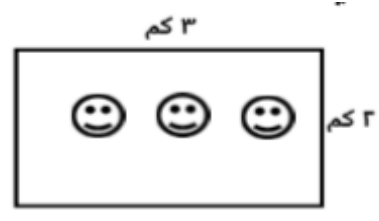
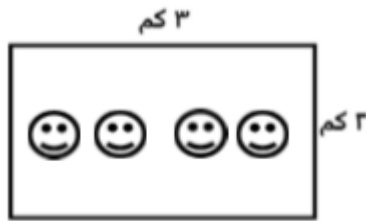
أ - ازدياد نسبة متوسطي السن

ب - انخفاض نسبة صغار السن

ج - ازدياد نسبة صغار السن

د- انخفاض نسبة متوسطي السن

٩- الشكل الذي يمثل أكبر معدل للكثافة السكانية علما بأن الرمز ☺ يساوي ٢٠ نسمة:



(٣)

المادة: الدراسات الاجتماعية - الصف: السابع - الدور الثاني - الفصل الدراسي الأول - العام الدراسي ٢٠٢٣/٢٠٢٤م

تابع السؤال الأول:

١٠- عندما يقوم سالم بتوفير ١٠٠ ريال من راتبه شهريا، فإنه في هذه الحالة يطبق مفهوم:
 أ- الادخار ب- الاستثمار ج- الدخل د- الاستهلاك

١١- الصورة التي ترمز إلى السلوك الصحيح الذي تلتزم به لتتمتع بصحة جيدة:



(ب)



(أ)

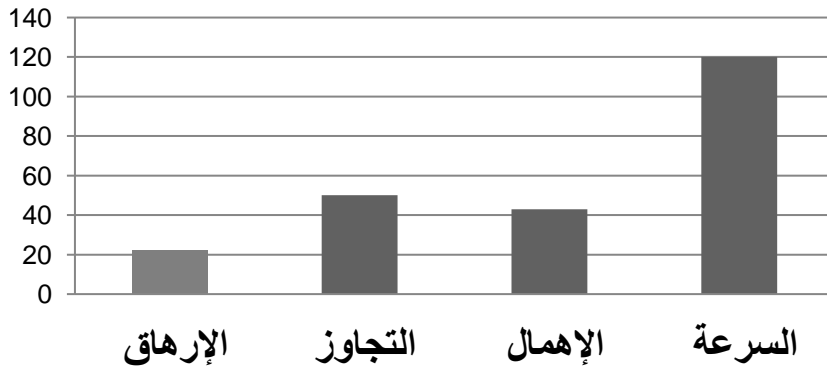


(د)



(ج)

١٢- السبب الرئيسي في زيادة حوادث المرور في سلطنة عمان عام ٢٠١٠م وفقا للشكل المقابل هو:



أ - الإرهاق

ب - التجاوز

ج - الإهمال

د - السرعة

أسباب حوادث المرور في سلطنة عمان عام
2010

(٤)

المادة: الدراسات الاجتماعية - الصف: السابع - الدور الثاني - الفصل الدراسي الأول - العام الدراسي ٢٠٢٣/٢٠٢٤ م

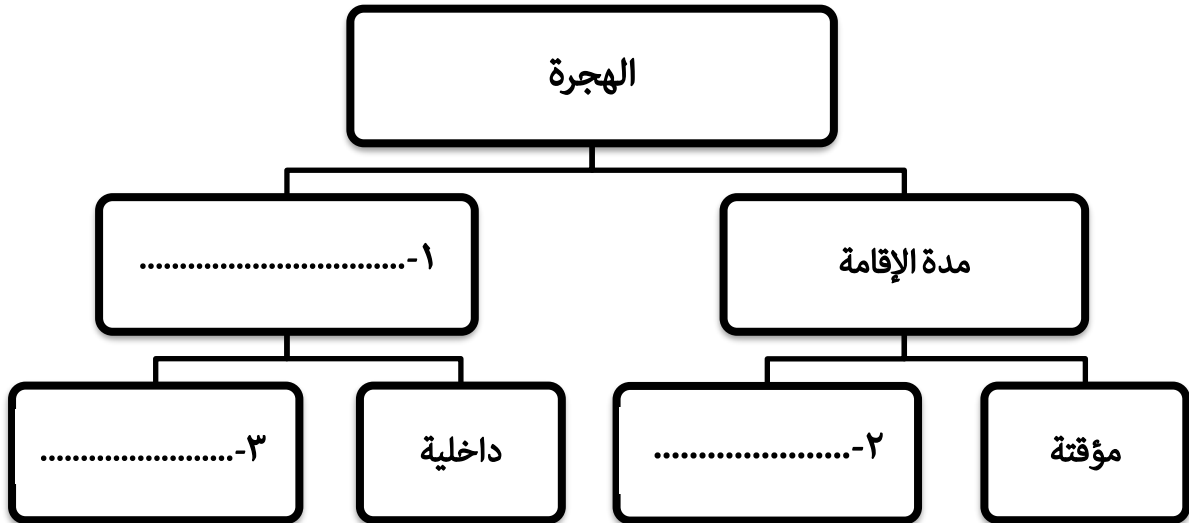
السؤال الثاني: أجب عن جميع الأسئلة الآتية:

٨

أولاً: أكتب اسم المصطلح أو المفهوم الدال على العبارات الآتية:

م	العبرة	المفهوم
١	عدد السكان في الكيلو متر المربع الواحد.
٢	الفرق بين عدد المواليد وعدد الوفيات للسكان في مجتمع ما في فترة محددة.
٣	العصور التي كان الإنسان يصنع فيها أدواته من الحجارة الصوانية البسيطة.

ثانياً: أأكمل المخطط الآتي بما يناسبه وفقاً للمعطيات المكتوبة فيه:



ثالثاً: أ) صنف العوامل المؤثرة على توزيع السكان التالية في الجدول التالي: (المناخ - وسائل النقل - المسطحات المائية - الأنشطة الاقتصادية).

العوامل البشرية	العوامل الطبيعية
.....
.....

يتبع/٥

(٥)

المادة: الدراسات الاجتماعية - الصف: السابع - الدور الثاني - الفصل الدراسي الأول - العام الدراسي ٢٠٢٣/٢٠٢٤م

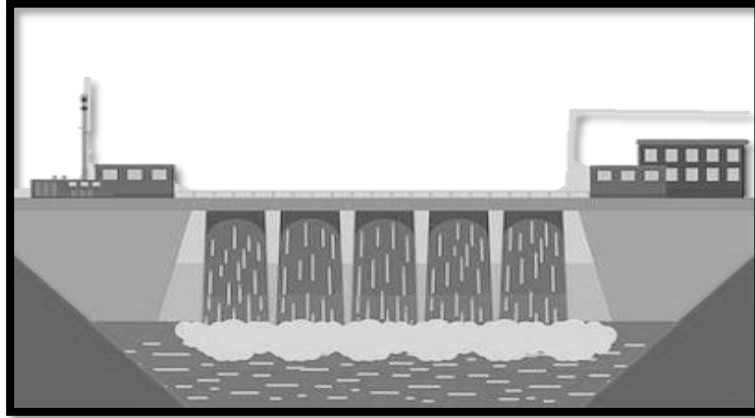
السؤال الثالث: أجب عن جميع الأسئلة الآتية:

أولاً: أ) اكتب في الجدول اسم عمان لدى بعض الحضارات القديمة:

٨

الحضارة	الاسم الذي أطلقته على عمان
الفرس	١-
السومرية	٢-

ثانياً: أ) الشكل الذي أمامك يمثل أحد أنواع الموارد الطبيعية، انظر إليه ثم أجب عن الأسئلة التي تليه.



١- نوع الطاقة المستخدمة في الصورة:

متجدد غير متجدد (اختر الإجابة الصحيحة بوضع علامة √)

٢- ما العلاقة بين عدد السكان والموارد الطبيعية.

٣- تعد الموارد الطبيعية من الممتلكات العامة للدولة، في ضوء ذلك وضح دورك كمواطن تجاه الموارد الطبيعية في مدينتك. (يكتفي بذكر اثنين)

- ●
- ●

ثالثاً: أ) رتب الأحداث التاريخية الآتية بكتابة الأرقام (١، ٢، ٣، ٤) من الأقدم إلى الأحدث

(....) استخدام الطوب في البناء

(....) ظهور المدن التجارية

(....) اكتشاف النار

(....) استقرار الإنسان القديم

(٦)

المادة: الدراسات الاجتماعية - الصف: السابع - الدور الثاني - الفصل الدراسي الأول - العام الدراسي ٢٠٢٣/٢٠٢٤م

السؤال الرابع: أجب عن جميع الأسئلة الآتية

أولاً: (أ) أذكر مثال واحد لكل من:

١ - مصادر دخل الفرد قديماً

٦

٢ - أساليب شرطة عمان السلطانية فيما يتعلق بالتوعية والسلامة المرورية

٣ - مؤسسات الخدمة التي تشرف عليها الدولة.

ثانياً: (أ) ادرس الصور جيداً ثم أجب عن الأسئلة التالية:



(ب)



(أ)

١ - المنطقة المتوقعة ارتفاع الكثافة السكانية فيها:

(اختر الإجابة الصحيحة بوضع علامة √)

المنطقة (ب)

المنطقة (أ)

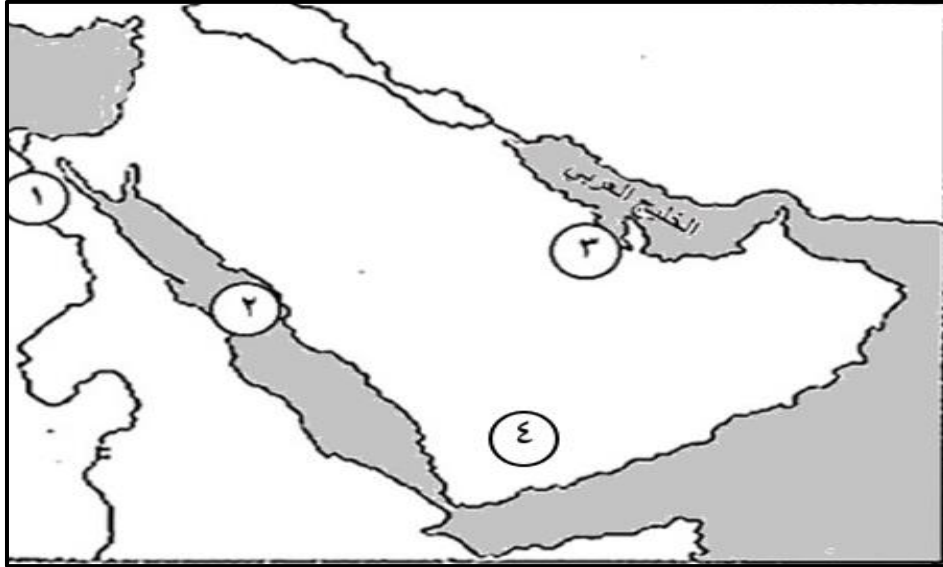
٢- فسر إجابتك

٣- اذكر أبرز المشكلات الناتجة عن النمو السكاني السريع في المجتمعات؟

السؤال الخامس: أجب عن الأسئلة الآتية:

أولاً: أدرس الخريطة التي أمامك جيدا ثم أجب عما يلي :

٦



١- ما الرقم الذي يشير الى :

أ- الحضارة التي استخدمت اللبان قديما في تحنيط جثث الموتى (.....).

ب- الحضارة التي أطلق اليونان عليها بلا العرب السعيدة (.....)

٢- وقع على الخريطة حضارة مجان في موقعها الصحيح

ثانياً: انظر إلى الصورة المقابلة، ثم أجب عن الآتي:

١- ما الممارسة الخاطئة التي تشير إليها الصورة؟

.....

٢- ما الأمراض الخطيرة التي تنتج عن هذه الممارسة؟

(اكتفي بذكر اثنين)

..... ●

..... ●

٣- وجه نصيحة للشباب الذين يمارسون هذا السلوك.

.....

.....

انتهت الأسئلة مع الدعاء للجميع بالتوفيق والنجاح



نموذج إجابة امتحان الصف السابع
للعام الدراسي ١٤٤٥ هـ - ٢٠٢٣/٢٠٢٤ م
الدور الثاني - الفصل الدراسي الأول

المادة: الدراسات الاجتماعية
تنبيهه: نموذج الإجابة في (٥) صفحات.
الدرجة الكلية: (٤٠) درجة.

أولاً: إجابة السؤال الموضوعي:

١٢ درجة		إجابة السؤال الأول		
الصفحة	الدرجة	الإجابة	البديل الصحيح	المفردة
١٦	١	الرابعة	د	١
١٧	١		د	٢
٣٧	١	معين	ج	٣
٢٥	١	مجان	أ	٤
٤٢	١	٢٠١٠م	د	٥
٥٣	١	وفيات الرضع	ج	٦
٦١	١	الشمالي	أ	٧
٤٨	١	ازدياد نسبة صغار السن	ج	٨
٦٤	١		د	٩
٧٥	١	الادخار	أ	١٠
٧٩	١		ب	١١
٩٣	١	السرعة	د	١٢
١٢		المجموع		

(٢)

تابع نموذج إجابة امتحان الصف السابع
للعام الدراسي ١٤٤٥ هـ - ٢٠٢٣/٢٠٢٤ م
الدور الثاني- الفصل الدراسي الأول
المادة: الدراسات الاجتماعية

ثانيا: إجابة الأسئلة المقالية:

إجابة السؤال الثاني		الدرجة الكلية: (٨) درجة	
الجزئية	المفردة	الإجابة الصحيحة	الدرجة
أولا (أ)	١	الكثافة السكانية	١
	٢	الزيادة الطبيعية	١
	٣	العصور الحجرية	١
ثانيا (أ)	١	المكان	١
	٢	دائمة	١
	٣	خارجية	١
ثالثا (أ)	العوامل الطبيعية		٢ درجاتان لكل اجابة نصف درجة
	العوامل البشرية		
	المناخ	وسائل النقل	
	المسطحات المائية	الأنشطة الاقتصادية	
٦٣			
٥٥			
١٧			
٥٦			
٦٢-٦١			

(٣)

تابع نموذج إجابة امتحان الصف السابع
للعام الدراسي ١٤٤٥ هـ - ٢٠٢٣/٢٠٢٤ م
الدور الثاني - الفصل الدراسي الأول
المادة: الدراسات الاجتماعية

تابع ثانياً: إجابة الأسئلة المقالية:

الدرجة الكلية: (٨) درجة		إجابة السؤال الثالث		
الصفحة	الدرجة	الإجابة الصحيحة	المفردة	الجزئية
٢٨	١	مزون	١	أولا (أ)
٢٦	١	مجان	٢	
٦٨	١	متجدد ✓	١	ثانياً (أ)
٦٨	١	- تتأثر سلبي بزيادة عدد السكان كلما زاد عدد السكان زاد استنزاف الموارد الطبيعية.	٢	
٨٨	٢درجتان لكل اجابة درجة واحدة	-الحفاظ على جمال البيئة وعدم تلويثها . -المحافظة على أجهزة الطاقة وعدم تخريبها . -المحافظة على تجهيزات المياه وأجهزة الاتصالات العامة . -المحافظة على المال العام للدولة وترشيد النفقات (يكتفى بذكر اثنين)	٣	
١٨-١٦	٢درجتان لكل اجابة نصف درجة	(٣) استخدام الطوب في البناء (٤) ظهور المدن التجارية (١) اكتشاف النار (٢) استقرار الإنسان القديم		ثالثاً (أ)

(٤)

تابع نموذج إجابة امتحان الصف السابع
للعام الدراسي ١٤٤٥ هـ - ٢٠٢٣/٢٠٢٤ م
الدور الثاني - الفصل الدراسي الأول
المادة : الدراسات الاجتماعية

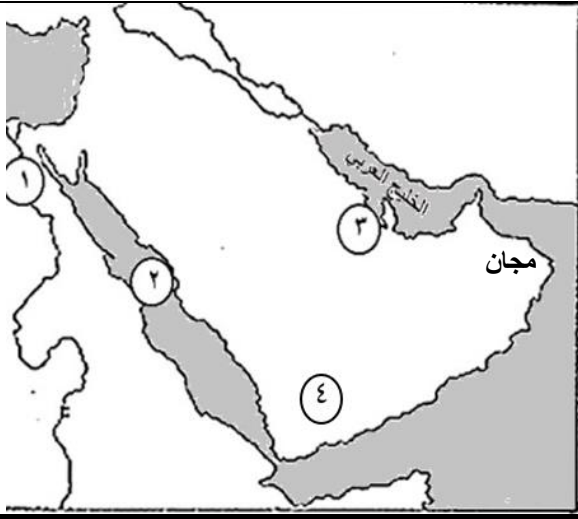
تابع ثانيا: إجابة الأسئلة المقالية:

الدرجة الكلية: (٦) درجة		إجابة السؤال الرابع		
الصفحة	الدرجة	الإجابة الصحيحة	المفردة	الجزئية
٧٤	١	- الزراعة / تربية الحيوانات (يكتفي بذكر واحد).	١	أولا (أ)
٩٥	١	-إصدار النشرات الإرشادية المتعلقة بالتوعية . - إقامة برامج التوعية الإعلامية في الإذاعة والتلفاز والصحف. - توعية أصحاب المركبات بضرورة الالتزام بشروط الأمان للمركبة. (يكتفي بذكر واحد).	٢	
٨٦	١	المستشفيات / المدارس / مراكز التعليم / مراكز التدريب المهني / طرق المواصلات /مباني الخدمات الاعلامية/ الماء / الكهرباء (يكتفي بذكر واحد).	٣	
٦١	١	المنطقة (ب) <input type="checkbox"/>	١	ثانيا (أ)
٦١	١	لأن المنطقة (ب) تتميز باعتدال المناخ وتوافر الثروات البحرية فيها. أو المنطقة (أ) صحراوية تتميز بارتفاع درجة الحرارة وقلة المطار . (تقبل إي إجابة بما تفيد المعنى)	٢	
٦٧	١	الضغط على الخدمات الاجتماعية كالتعليم والتوظيف ، وظهور ما يعرف البطالة .	٣	

(٥)

تابع نموذج إجابة امتحان الصف السابع
للعام الدراسي ١٤٤٥ هـ - ٢٠٢٣/٢٠٢٤ م
الدور الثاني - الفصل الدراسي الأول
المادة : الدراسات الاجتماعية

تابع ثانيا: إجابة الأسئلة المقالية :

الدرجة الكلية: (٦) درجة		إجابة السؤال الخامس	
الصفحة	الدرجة	الإجابة الصحيحة	المفردة
١٩/٣٠	١	١	أ
١٩/٣٦	١	٤	ب
١٩	١		٢
٨٠	١	التدخين	١
٨٠	درجة لكل إجابة نصف درجة	<ul style="list-style-type: none"> • ضيق التنفس • سرطان الرئة 	٢
٨٣	١	<p>انصحه بالإقلاع عن هذه الممارس والتوقف عنها لأنها خسارة لنقوده ولصحته وتضر الآخرين .</p> <p>(تقبل أي إجابته تفيد المعنى)</p>	٣

نهاية نموذج الإجابة