



المديرية العامة للتربية والتعليم بمحافظة البريمي
مدرسة ميمونة بنت الحارث



امتحان نهاية الفصل الدراسي الأول لمادة: الرياضيات
للفيف الخامس/ الدور الأول
للعام الدراسي ١٤٤٣/١٤٤٤هـ - ٢٠٢٢/٢٠٢٣م

اسم الطالبة	
الصف	الخامس ()

التوقيع بالاسم		الدرجة		الصفحة
المصحح الثاني	المصحح الأول	بالحروف	بالأرقام	
				١
				٢
				٣
				٤
				٥
				٦
				٧
				٨
				٩
				١٠
مراجعة الجمع	جمعه			المجموع
				المجموع الكلي

- زمن الامتحان: ساعة
- الإجابة في الدفتر نفسه.
- الدرجة الكلية للامتحان: (٤٠) درجة.
- عدد صفحات أسئلة الامتحان: (٦).
- يسمح باستخدام: المسطرة، المنقلة، المثلث القائم، الورق الشفاف.
- لا يسمح باستخدام: الآلة الحاسبة.
- اقرأ التعليمات الآتية في البداية:
- أجب عن جميع الأسئلة في الفراغ المخصص في ورقة الأسئلة.
- وضح كل خطوات حلك في دفتر الأسئلة.
- درجة كل سؤال أو جزء من السؤال مكتوبة في اليسار بين الحاص

(١)
امتحان نهاية الفصل الدراسي الأول لمادة الرياضيات الصف: الخامس
للعام الدراسي ٢٠٢٢/٢٠٢٣ الدور الأول

١	أكمل مضاعفات العدد ٣	١
١	<input type="text"/> ، <input type="text"/> ، ٦ ، ٣	
١	حوظ ناتج $٣٢ + ٢٥$	٢
١	٩٣ ٥٧ ٤٦ ٣٢	
١	أوجد ناتج $١٠٠ \div ٢٦٠٠ =$ <input type="text"/>	٣
٢	ضع علامة < أو > في المكان المناسب	٤
٢	$٧٨٢٥ \bigcirc ٧٨٥٢$ $٣٦٦٠ \bigcirc ٣٦٠٦$	
١	أوجد ناتج $٦٢٨٩ - ٣٠٠٩ =$ <input type="text"/>	٥
٢	صل الوقت الذي تشير إليه الساعة	٦
٢	 	
	<input type="text"/> $٣:٠٠$ <input type="text"/> $٤:٠٠$ <input type="text"/> $٢:١٥$	

(٢)

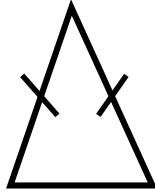
امتحان نهاية الفصل الدراسي الأول لمادة الرياضيات الصف: الخامس
للعام الدراسي ٢٠٢٢/٢٠٢٣ الدور الأول

٧ ضع علامة (✓) في المكان المناسب بجوار كل عبارة

خطأ	صواب	العبارة
		نصف العدد ٣٦ هو ١٦
		ضعف العدد ٤٤ هو ٨٨

٢

٨ أرسـم خط التماثل للمثلث المتطابق الضلعين



١

٩ لدى فاطمة ٨,٣٥٠ ريال، وربحت في أحد المسابقات مبلغ ١٠,٥٠٠ ريال. احسب المبلغ الذي أصبح مع فاطمة؟

١

١٠ ضع علامة (✓) في المكان المناسب

عدد فردي	عدد زوجي	العبارة
		عدد فردي + عدد فردي
		عدد زوجي + عدد فردي

١



قام أحمد بحل المسألة كالتالي:

$$\begin{array}{r} ٥٣٥ \\ ٤٢٢ \\ \hline ١١٣ \end{array} +$$


تحقق من صحة حساب أحمد

١

يتبع/٣

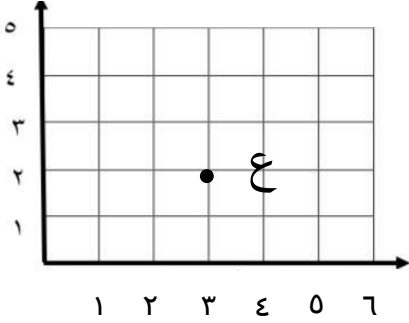
٦

الدرجة



(٣)


امتحان نهاية الفصل الدراسي الأول لمادة الرياضيات الصف: الخامس
للعام الدراسي ٢٠٢٢/٢٠٢٣ الدور الأول

١	١٢	أكمل المتتالية ٢ ، ٤ ، ٦ ،
١	١٣	تقول سلمى يحتوي المستطيل الخاص بي على ١٠ صفوف من ٦ مربعات حوط مساحة المستطيل الذي تتحدث عنه سلمى ٢٠ ٣٠ ٤٠ ٦٠
١	١٤	صل كل عبارة في العمود الأول بالنتائج الصحيحة في العمود الثاني <div style="display: flex; justify-content: space-around; align-items: center;"> <div style="border: 1px solid black; padding: 5px; margin: 5px;">20</div> <div style="border: 1px solid black; padding: 5px; margin: 5px;">4×6</div> </div> <div style="display: flex; justify-content: space-around; align-items: center;"> <div style="border: 1px solid black; padding: 5px; margin: 5px;">24</div> <div style="border: 1px solid black; padding: 5px; margin: 5px;">2×10</div> </div> <div style="display: flex; justify-content: space-around; align-items: center;"> <div style="border: 1px solid black; padding: 5px; margin: 5px;">28</div> </div>
١	١٥	حوط إحداثيات النقطة ع  (٢، ١) (١، ٢) (٢، ٣) (٤، ٥)
١	١٦	أكمل العدد الناقص $١ = \square + ٠,٦$

يتبع/٤

٥

الدرجة



(٤)

امتحان نهاية الفصل الدراسي الأول لمادة الرياضيات الصف: الخامس
للعام الدراسي ٢٠٢٢/٢٠٢٣ الدور الأول

١٧

اكتب القيمة المكانية للرقم ٤ في الأعداد التالية

العدد	القيمة المكانية
٢,٤	
٣,٢٤	

٢

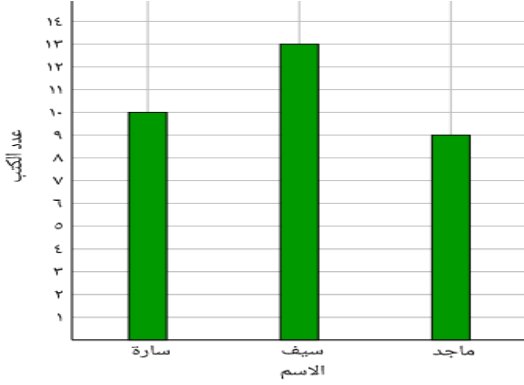
١٨

أكمل العبارة

يقبل العدد القسمة على ٥ إذا كان أحاده أو

١

١٩



الشكل المقابل يوضح الكتب التي قرأها
ثلاث طلاب
أوجد مجموع الكتب التي قرأها الطلاب
الثلاثة؟

١

٢٠

سلك كهربائي طوله ١٣٢ متر يراد تقطيعه الي ٦ قطع .
أوجد طول القطعة الواحدة؟

١

٢١

أكمل الصيغة التحليلية

$$\square + ٥٠٠ + \square + ٢ = ٤٥٣٢$$

١

٢٢


انطلقت حافلة من البريمي الساعة ٨:٣٠ ص متوجهة الي مسقط ووصلت في الساعة
١١:٠٠ ص .احسب الوقت المستغرق للرحلة

١

يتبع/٥

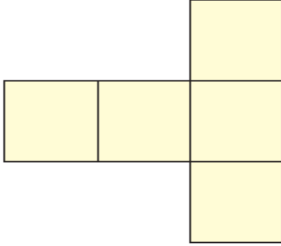

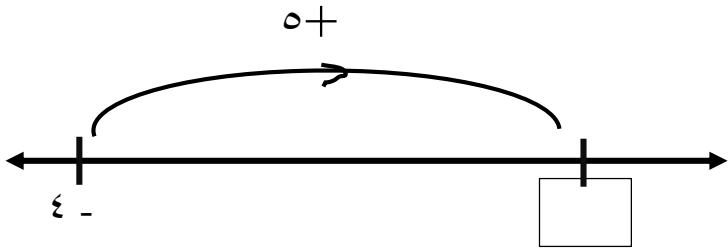
٧

الدرجة



(٥)

امتحان نهاية الفصل الدراسي الأول لمادة الرياضيات الصف: الخامس
للعام الدراسي ٢٠٢٢/٢٠٢٣ الدور الأول

١	حوط ناتج قسمة $225 \div 5$	٢٣	٤٥	٨٠	٦٩	٢٣
١		أكمل تظليل الشبكة لتمثل شبكة مكعب مغلق				٢٤
٢		يقول سالم ان العدد ٤٨ سيظهر في المتتالية ٣، ٦، ١٢، ، ، هل ما يقوله سالم صحيح؟ صح <input type="checkbox"/> خطأ <input type="checkbox"/> فسر اجابتك؟				٢٥
٢	لدى شيخة كيس من الأرز كتلته ٣ كغم استخدمت منه ٢٥٠٠ غم. احسب كتله الأرز المتبقية؟					٢٦
١	اكتب العدد المناسب في المربع 					٢٧
					٧	الدرجة

(٦)

امتحان نهاية الفصل الدراسي الأول لمادة الرياضيات الصف: الخامس
للعام الدراسي ٢٠٢٢/٢٠٢٣ الدور الأول

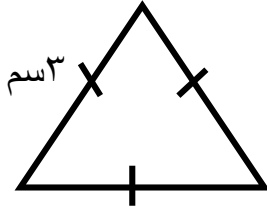
٢٨ حوط الكتلة الأكبر من ٢,٥ كغم

٢,٥ كغم ٢٥٠ غم ٢٥٠٠ غم ٣٠٠٠ غم

١

٢٩

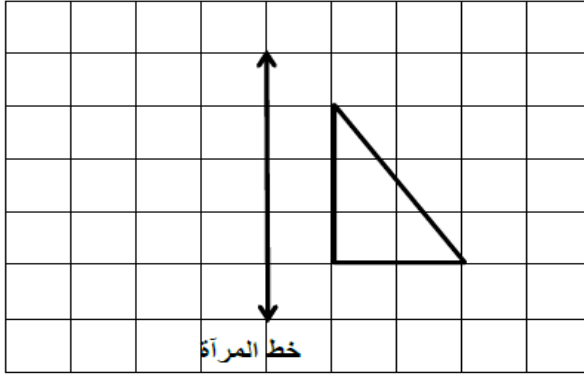
أوجد محيط الشكل المنتظم المقابل



١

٣٠

ارسم انعكاس الشكل حول خط المرآة



١

أكمل العبارة التالية $١٥٠ = \square \times ٣$

٣١

١

٣٢

اكتب عاملين للعدد ٢٤ يكون حاصل جمعهما ١٠

١

٣٣ لدى عمر ١٢ صندوق في كل صندوق ١٤ كتاب. احسب عدد الكتب لدى عمر؟

٢

الدرجة

٧

انتهت الأسئلة مع الدعاء للجميع بالتوفيق والنجاح.

۲		۲
۱		۳